



PREFEITURA MUNICIPAL DE CAMPOS DO JORDÃO

Estado de São Paulo

OFICIAL DE ESCOLA

CONCURSO PÚBLICO
01/2019

NÃO ABRA ESTE CADERNO DE QUESTÕES ANTES QUE LHE PEÇAM.

AGUARDE AUTORIZAÇÃO PARA INICIAR A PROVA.

- ♣ Desligue o celular e outros aparelhos.
- ♣ Este **Caderno de Questões** contém **30 (trinta) questões** da Prova do seu Cargo. Verifique se este caderno corresponde com a sua opção de inscrição.
- ♣ Procure responder as questões na ordem em que elas aparecem no **Caderno de Questões**. Responda a todas as questões.
- ♣ Os candidatos poderão levar consigo o caderno de questões desde que transcorrida 1 hora do início da prova.
- ♣ Você deve assinar a Folha de Respostas. Confira todos os seus dados (Nome, RG, Data de Nascimento) e assine no campo indicado para assinatura.
A não assinatura por parte do candidato na Folha de Respostas resultará na eliminação automática do mesmo.
- ♣ Para preenchimento da Folha de Respostas, utilize caneta esferográfica azul ou preta.
- ♣ Você deve assinalar na **Folha de Respostas** somente uma letra (alternativa) para cada questão.
- ♣ Preencha na Folha de Respostas, com caneta de tinta azul ou preta, a letra escolhida conforme o exemplo:

--	--	--	--
- ♣ É vedado qualquer tipo de consulta e/ou comunicação durante a Prova.
- ♣ A prova terá duração de **2 horas e 30 minutos**.
O tempo mínimo de permanência na sala é de **1 hora**.
- ♣ Os três últimos candidatos sairão simultaneamente da sala. Havendo insistência por parte do candidato em sair da sala, este será considerado desistente do Concurso Público.
- ♣ Deixe sobre a carteira **apenas** RG, Caneta, Lápis e Borracha.
- ♣ Qualquer dúvida, fale exclusivamente com o fiscal de sala.

BOA PROVA !

CONHECIMENTOS GERAIS

LÍNGUA PORTUGUESA

?

Leia a seguir um trecho do texto intitulado *Valdir Peres, Juanito e Poleskei*, do escritor Antonio Prata, e responda as questões de 01 a 07.

De início, todos na rua tinham o mesmo poder aquisitivo e os bens per capita resumiam-se a uma bicicleta, uma bola de futebol, uma caixa de Playmobils, peças para montar outras quinquilharias. Com o lançamento do álbum de figurinhas da Copa de 82, contudo, percebemos uma ligeira diferença na distribuição de renda: uns recebiam cinco pacotinhos por dia, outros tinham direito a dez, mas nada que ameaçasse nosso equilíbrio socioeconômico.

01

Na passagem “*todos na rua tinham o mesmo poder aquisitivo e os bens per capita resumiam-se a uma bicicleta ...*”, qual o significado do termo *per capita*?

- (A) Por ordem de valor, decrescente.
- (B) Por compaixão, coletiva.
- (C) Por capacitação, individual.
- (D) Por pessoa, em média.

02

Seguindo a passagem acima mencionada, o texto descreve os seguintes itens: “*uma bicicleta, uma bola de futebol, uma caixa de Playmobils, peças para montar outras quinquilharias*”. Qual termo exprime de maneira sintética os itens descritos?

- (A) Distribuição de renda
- (B) Bens per capita
- (C) Poder aquisitivo
- (D) Equilíbrio socioeconômico

03

Ainda em relação a essa sentença inicial, qual seria o significado oposto do termo *quinquilharias*?

- (A) Coisas de muito valor
- (B) Brinquedos de criança
- (C) Armadilhas
- (D) Traquinagens

04

Na passagem “*uns recebiam cinco pacotinhos por dia*”, a que se refere o termo *pacotinhos*?

- (A) Balas
- (B) Quinquilharias
- (C) Figurinhas
- (D) Distribuição de renda

05

A segunda sentença do texto, “*Com o lançamento do álbum de figurinhas ...*”, estabelece com a sentença inicial uma relação de:

- (A) Concessão
- (B) Conclusão
- (C) Explicação
- (D) Oposição

06

A partir da leitura de todo o trecho, é possível afirmar que o texto é narrado do ponto de vista de:

- (A) Uma criança
- (B) Um adulto
- (C) Um professor
- (D) Uma idosa

07

Observando o encadeamento das ideias e a forma de descrição da história, é possível afirmar que o texto elabora uma narrativa do tipo:

- (A) Cômica
- (B) Nostálgica
- (C) Melancólica
- (D) Exultante

08

Assinale a alternativa na qual todos os termos estejam escritos em conformidade à ortografia oficial da língua portuguesa.

- (A) Edredom – travesseiro – lençol
- (B) Cadera – mesa – prateleira
- (C) Vazo – folhia – terra
- (D) Ponba – garsa – passarinho

09

Se conjugada no pretérito perfeito, como ficaria a frase “*Hoje é um dia especial*”?

- (A) Hoje seria um dia especial.
- (B) Ontem foi um dia especial.
- (C) Ontem era um dia especial.
- (D) Antes fora um dia especial.

10

Entre as alternativas abaixo, assinale aquela que apresenta uma frase com ambiguidade de sentido.

- (A) Antes de sair à rua, o homem abriu seu guarda-chuvas.
- (B) O almoço foi tão delicioso quanto o abraço que, ao final, recebeu do filho.
- (C) Por estar atrasada, a secretária subiu correndo no elevador.
- (D) Ao olhar para cima, a garota avistou um avião a cruzar o céu.

MATEMÁTICA

?

11

Uma obra foi planejada para ser executada por 21 trabalhadores, no prazo de 06 meses. Se o contratante precisasse que a mesma obra fosse realizada em um prazo mais curto, de 02 meses, quantos trabalhadores seriam necessários?

- (A) 07 trabalhadores.
- (B) 21 trabalhadores.
- (C) 42 trabalhadores.
- (D) 63 trabalhadores.

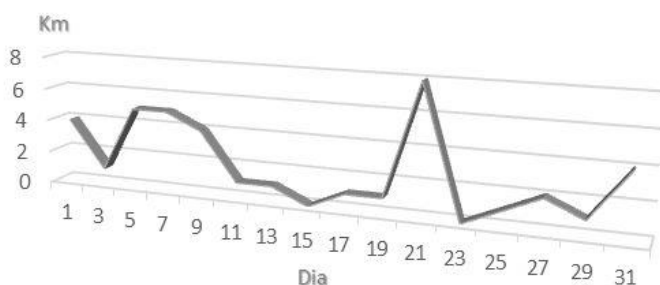
12

Cinco crianças passaram alguns minutos apanhando as frutas de uma mangueira, ao final, juntaram tudo que colheram e dividiram igualmente entre si. A primeira criança apanhou 05 mangas, as outras colheram 02, 05, 05 e 03 frutas respectivamente. Quantas mangas couberam a cada criança após a divisão?

- (A) 2 mangas.
- (B) 3 mangas.
- (C) 4 mangas.
- (D) 5 mangas.

13

O gráfico abaixo apresenta a quantidade diária de quilômetros percorrida por uma pessoa ao longo de um mês.



De acordo com as informações fornecidas no gráfico, assinale a alternativa correta.

- (A) O máximo em quilômetros percorridos ocorreu no dia 21.
- (B) O mínimo em quilômetros percorridos ocorreu no dia 11.
- (C) A média de quilômetros percorridos foi de 4 km/dia.
- (D) Houve uma constância na quantidade de quilômetros percorridos.

ÁREA PARA RASCUNHO

ÁREA PARA RASCUNHO

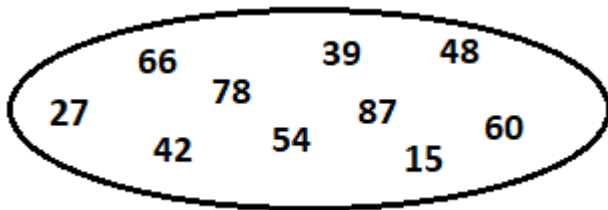
14

Suponha que uma pessoa receba anualmente R\$ 32.915,10 e sobre seus ganhos seja descontada uma tributação de 7,5%. Qual valor seria descontado por essa tributação?

- (A) R\$ 354,80
- (B) R\$ 1.128,71
- (C) R\$ 2.468,63
- (D) R\$ 3.471,10

15

Analise a imagem abaixo e responda.



Qual o mínimo múltiplo comum entre os números?

- (A) 0
- (B) 2
- (C) 3
- (D) 5

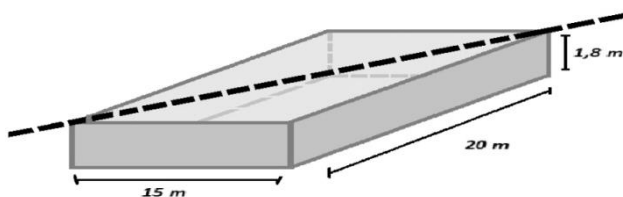
16

Na expressão $3x + 13 = -35$, qual o valor de x ?

- (A) -13
- (B) -16
- (C) 5
- (D) 7

17

A piscina do clube possui 20 metros de comprimento, 15 metros de largura e 1,8 metro de profundidade. Qual a distância entre os cantos da superfície da piscina dispostos em diagonal?



- (A) 21,8 metros.
- (B) 25 metros.
- (C) 35 metros.
- (D) 36 metros.

ÁREA PARA RASCUNHO

ÁREA PARA RASCUNHO

18

Ao adquirir seu novo *smartphone*, Fabiano parcelou a compra em 6 vezes iguais. Sabendo que na compra parcelada incidiu juros simples de 5,5% sobre o valor do produto e que o preço à vista do aparelho era R\$ 799,00, quanto Fabiano pagará aproximadamente em cada parcela?

- (A) R\$ 140,50
- (B) R\$ 207,75
- (C) R\$ 804,50
- (D) R\$ 842,95

19

Analise a Tabela Nutricional abaixo e assinale a alternativa correta.

INFORMAÇÃO NUTRICIONAL		
Porção de 15g (01 unidade)		
	Quantidade por porção	%VD(*)
Valor Energético	107 kcal = 448 KJ	5
Carboidratos	12,5 mg	3
Proteínas	9,8 mg	9
Fibra Alimentar	1 mg	2

(*) % Valores Diários de referência com base em uma dieta de 2.000 kcal ou 8.400 KJ. Seus valores diários podem ser maiores ou menores dependendo de suas necessidades energéticas.

- (A) A maior parte da composição do produto é de fibra alimentar.
- (B) O produto possui mais mg de proteínas que de carboidratos.
- (C) O consumo do produto não é indicado para dietas com mais de 2.000 kcal.
- (D) O consumo de 30 gramas do produto corresponde à ingestão de 214 kcal.

20

Um cliente ligou à pizzaria e pediu que fatiassem sua pizza em 08 pedaços. Se o pizzaiolo pretendesse cortá-los perfeitamente simétricos, qual deveria ser o ângulo da ponta central de cada pedaço?

- (A) 20°
- (B) 30°
- (C) 45°
- (D) 60°

ÁREA PARA RASCUNHO

ÁREA PARA RASCUNHO

CONHECIMENTOS ESPECÍFICOS

21

A fim de impedir a perda de dados ou arquivos, é importante que o sistema ou programa de registros informatizados contenha:

- (A) Autorização do sistema operacional para que o registro informatizado seja salvo de forma correta.
- (B) Campos de busca de dados e a opção de cópia de segurança ou de impressão.
- (C) Eliminação automática programada de dados ou arquivos aleatórios não mais acessados.
- (D) Método correlato de arquivamento informatizado em outro equipamento, criando duas cópias separadas de cada arquivo.

22

O método de registro de documentos no processo de arquivamento consiste em:

- (A) Classificar em níveis diferentes um documento dentro de um sistema de gestão de arquivo, detalhando seu conteúdo, origem e função.
- (B) Criar um dossiê assegurando que o documento em questão seja identificado de forma sinuosa ao longo do tempo.
- (C) Analisar e identificar o conteúdo dos documentos e o nome da pessoa física ou jurídica que pode ter acesso a ele, guardando seus dados e endereço eletrônico para contato.
- (D) Formalizar a captura do documento dentro do sistema de gestão de arquivos por meio da atribuição de um número identificador e de uma descrição informativa.

23

Não é um princípio do atendimento ao cidadão, realizado pelos serviços públicos brasileiros:

- (A) Legalidade: os órgãos públicos, atuando por meio dos servidores, devem seguir a lei.
- (B) Impessoalidade: os órgãos públicos não devem fazer acepção de pessoas, com exceção das hierarquias institucionais.
- (C) Moralidade: os órgãos públicos devem seguir valores e condutas de aceitação pública.
- (D) Publicidade: os órgãos públicos devem buscar eficiência, tendo que ser transparentes e agir da melhor maneira possível.

24

As pastas são funcionalidades muito úteis para se organizar arquivos e diretórios no *Windows*. Supondo que se queira alterar o nome de uma pasta presente na *Área de Trabalho* do *Windows 10*, de que modo essa tarefa poderia ser realizada?

- (A) Dar duplo clique com o botão principal do *mouse* ou *trackpad* sobre a pasta desejada, na aba *Editar* selecionar a opção *Nome* e inserir o nome desejado.

- (B) Dar clique simples com o botão principal do *mouse* ou *trackpad* sobre o ícone da pasta desejada, selecionar a opção *Nome* e inserir o nome desejado.

- (C) Com o botão principal do *mouse* ou *trackpad* pressionado, arrastar o cursor e selecionar a pasta a ser renomeada, por fim, digitar o novo nome.

- (D) Clicar com o botão auxiliar do *mouse* ou *trackpad* sobre a pasta, selecionar a opção *Renomear* e digitar o nome desejado.

25

Manter o sistema operacional sempre atualizado é uma atividade essencial para garantir a segurança do computador. No *Windows 10* isso é possível através da opção *Windows Update* no menu de *Atualização e Segurança* do painel de configurações. Qual ícone do painel de configurações identifica a sessão de *update* do *Windows 10*?



26

Assim como a maior parte dos *softwares*, os aplicativos da suíte *Microsoft Office* respondem a teclas de atalho bastante prestativas para incremento de produtividade. Um exemplo disso é o atalho padrão para solicitação e configuração de impressões. Qual a tecla de atalho para impressão nas aplicações do pacote *Office*?

- (A) Ctrl + I
- (B) Ctrl + P
- (C) Ctrl + F2
- (D) Alt + I

27

Um grande benefício disponibilizado pelos serviços de e-mail é a possibilidade de desfrutar da funcionalidade de anexação de arquivos. Do que se trata a anexação de arquivos?

- (A) Da possibilidade de se enviar um arquivo junto com a mensagem de texto.
- (B) Da capacidade de armazenar arquivos pessoais em serviços de nuvem.
- (C) Da habilidade de combinar arquivos ou editar seus conteúdos dentro da caixa de e-mails.
- (D) Da varredura automática de arquivos para garantir que estão livres de vírus.

28

Observe a seguinte tabela construída no *Microsoft Excel* e responda.

	A	B	C	D
1				
2		Roupa	Preço (R\$)	
3		Blusa	60,00	
4		Bermuda	35,00	
5		Calça	95,00	
6		Camiseta	20,00	
7		Paletó	130,00	
8				
9				=SOMA(C5:C7)
10				

Qual o resultado da função escrita na célula D9?

- (A) Calça:Paletó
- (B) 225,00
- (C) 245,00
- (D) Calça+Paletó.

29

Uma atividade muitíssimo utilizada por todo tipo de usuário é a afamada função de copiar e colar, entretanto, o que poucos sabem é que, para ela se tornar viável, o sistema operacional precisa se valer de blocos temporários de memória que garantam acesso de vários programas ao seu conteúdo. Qual nome recebe esses blocos temporários de memória onde ficam armazenados os conteúdos copiados?

- (A) Janela de Transição
- (B) Hard Disk
- (C) Data Annotations
- (D) Área de Transferência

30

Segundo prevê a Lei Municipal nº 2.538/00, que dispõe sobre o plano de carreiras e vencimentos do quadro de apoio educacional da Secretaria de Educação, o regime jurídico instituído entre os trabalhadores e a Prefeitura do Município de Campos do Jordão, será:

- (A) Celetista, pois aplica-se a CLT (Consolidação das Leis do Trabalho).
- (B) Civilista, pois aplica-se o Código Civil Brasileiro.
- (C) Estatutário, pois aplica-se a lei dos servidores públicos municipais, já que esta lei se aplica a todos os servidores do município.
- (D) Estatutário, pois aplica-se a lei dos servidores públicos estaduais do governo do Estado de São Paulo.