



AUXILIAR DE MANUTENÇÃO DE ESTRADAS

PROCESSO SELETIVO
01/2019

NÃO ABRA ESTE CADERNO DE QUESTÕES ANTES QUE LHE PEÇAM.

AGUARDE AUTORIZAÇÃO PARA INICIAR A PROVA.

- ♣ Desligue o celular e outros aparelhos.
- ♣ Este **Caderno de Questões** contém **20 (vinte) questões** da Prova de sua Função Pública. Verifique se este caderno corresponde com a sua opção de inscrição.
- ♣ Procure responder as questões na ordem em que elas aparecem no **Caderno de Questões**. Responda a todas as questões.
- ♣ Os candidatos poderão levar consigo o caderno de questões após o tempo mínimo de permanência na sala de Provas.
- ♣ Você deve assinar a Folha de Respostas. Confira todos os seus dados (Nome, RG, Data de Nascimento) e assine no campo indicado para assinatura.
A não assinatura por parte do candidato na Folha de Respostas resultará na eliminação automática do mesmo.
- ♣ Para preenchimento da Folha de Respostas, utilize caneta esferográfica azul ou preta.
- ♣ Você deve assinalar na **Folha de Respostas** somente uma letra (alternativa) para cada questão.
- ♣ Preencha na Folha de Respostas, com caneta de tinta azul ou preta, a letra escolhida conforme o exemplo:

--	--	--	--
- ♣ Assinale apenas uma alternativa para cada questão. Mais de uma marcação anulará a resposta.
- ♣ Não será permitido substituir a Folha de Respostas. Não rasure, amasse ou dobre a Folha.
- ♣ É vedado qualquer tipo de consulta e/ou comunicação durante a Prova.
- ♣ A prova terá duração de **2 horas**.
O tempo mínimo de permanência na sala é de **1 hora**.
- ♣ Os três últimos candidatos sairão simultaneamente da sala. Havendo insistência por parte do candidato em sair da sala, este será considerado desistente do Processo Seletivo.
- ♣ Deixe sobre a carteira **apenas** RG, Caneta, Lápis e Borracha.
- ♣ Qualquer dúvida, fale exclusivamente com o fiscal de sala.

BOA PROVA !

CONHECIMENTOS GERAIS

CONHECIMENTO UNIVERSAL

?

01

Em meio a disputas como a derrubada de drone americano em território iraniano e recados de Donald Trump ao aiatolá Ali Khamenei, EUA e Irã travam atualmente uma guerra de ofensas e sanções. Os dois países já tinham relações conflituosas há décadas, em virtude, entre outras coisas, de disputas comerciais. Qual o principal produto de exportação do Irã?

- (A) Automóvel
- (B) Televisão
- (C) Laranja
- (D) Petróleo

02

Nos primeiros meses de seu mandato, o presidente Bolsonaro redigiu textos a fim de flexibilizar as regras de aquisição e porte de armamentos como revólveres, espingardas e fuzis. Como são classificados esses instrumentos bélicos?

- (A) Armas de fogo
- (B) Clavas
- (C) Portáteis de defesa
- (D) Armas brancas

03

A Seleção Brasileira realizou uma admirável participação na última Copa do Mundo de Futebol Feminino, ocorrida em junho. Entre as atletas brasileiras, destaca-se a maior artilheira de toda a história da Seleção, escolhida seis vezes como melhor jogadora do mundo. Quem é a jogadora de destaque da Seleção Brasileira de Futebol Feminino?

- (A) Marta Silva
- (B) Magic Paula
- (C) Mariana Groff
- (D) Maurren Maggi

04

A primeira-ministra britânica Theresa May renunciou ao cargo, em maio, após vários fracassos sofridos no parlamento inglês. Em qual continente está localizada a Inglaterra?

- (A) Oceania
- (B) Europa
- (C) Ásia
- (D) América do Norte

05

Um dossiê divulgado pelo jornal *Intercept* trouxe à público trocas de mensagens suspeitas entre o Procurador da República Deltan Dalagnol e um Juiz Federal que conduziu importantes julgamentos da operação Lava Jato. Qual o juiz envolvido nesse caso de mensagens suspeitas?

- (A) Ricardo Lewandowski

- (B) Rodrigo Maia
- (C) Sérgio Moro
- (D) Gilmar Mendes

LÍNGUA PORTUGUESA

?

Leia abaixo um trecho do conto *Chaco*, de Liliana Colanzi, e responda as questões de 06 a 10.

Dizia meu avô que cada palavra tem seu dono e que uma palavra certa faz a terra tremer. A palavra é um raio, um tigre, um vendaval, dizia o velho me olhando com raiva enquanto se servia de álcool de farmácia, mas ai de quem usa a palavra sem prudência. Sabe o que acontece com os mentirosos?, dizia. Eu queria esquecer meu avô olhando pela janela os urubus que davam voltas no imundo céu do povoado. Ou dele aumentando o volume da tevê. O sinal chegava com interferência, uma explosão de chuviscos. Às vezes isso era tudo o que víamos na tevê: chuviscos.

06

Ao longo do texto, de que outra forma o narrador do texto se refere a seu avô?

- (A) Dono
- (B) Mentiroso
- (C) Velho
- (D) Tigre

07

No início do texto, a palavra é algo comparado a que?

- (A) Dono
- (B) Vendaval
- (C) Álcool de farmácia
- (D) Prudência

08

Na passagem onde aparece a frase “(...) mas ai de quem usa a palavra sem prudência”, qual função ela exerce na fala do personagem?

- (A) Reclamação
- (B) Advertência
- (C) Súplica
- (D) Inibição

09

Na frase “Sabe o que acontece com os mentirosos?, *dizia*”, a quem se refere o verbo *dizia*?

- (A) Aos mentirosos
- (B) Ao narrador
- (C) Ao avô
- (D) Aos urubus

10

Segundo os elementos descritos no texto e as imagens nele presentes, qual a impressão criada sobre o lugar onde vivia o avô?

- (A) Uma casa simples de um vilarejo pobre.
 (B) Um apartamento grande e aconchegante.
 (C) Um sítio próspero da família.
 (D) Uma praia luxuosa no litoral brasileiro.

11

Assinale a alternativa em que as palavras estão escritas da forma correta (adequada às regras da ortografia da língua portuguesa).

- (A) xurrasco - bife - linguissa
 (B) chutera - meia - campu
 (C) sol - nuvem - dia
 (D) bolaxa - arroiz - feção

12

Assinale a alternativa em que a divisão silábica das palavras está feita da forma correta (adequada às regras da ortografia da língua portuguesa).

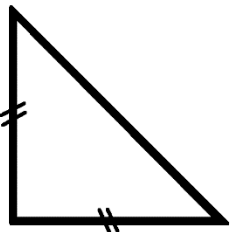
- (A) o-lho / de-do / ca-be-lo
 (B) ar-már-io / roup-a / cad-e-ira
 (C) cam-is-a / be-r-mu-da / cal-ça
 (D) tel-e-fon-e / tel-e-vis-ão / geladei-ra

MATEMÁTICA

?

13

Veja abaixo a figura de um triângulo equilátero.



Quantos lados tem um triângulo equilátero?

- (A) Um.
 (B) Dois.
 (C) Três.
 (D) Quatro.

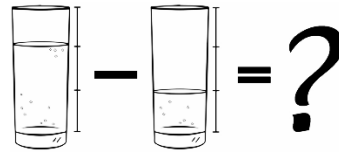
14

Sr. Mariano mora com seus três filhos. Paga aluguel na casa onde moram de R\$ 350,00 e dá mesada de R\$ 18,00 para cada filho. Sabendo que Sr. Mariano recebe um salário de R\$ 1.490,00, após pagar o aluguel e dar a mesada aos filhos, quanto de dinheiro sobra para Sr. Mariano?

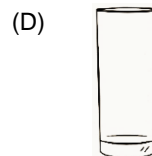

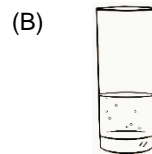
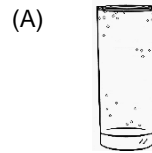
- (A) R\$ 996,00.
 (B) R\$ 1.036,00.
 (C) R\$ 1.086,00.
 (D) R\$ 1.106,00.

15

Observe a operação abaixo e responda.



Qual o resultado dessa subtração?



16

Em uma partida de futebol, os atletas que estavam em campo correram a soma total de 220km, exceto os dois goleiros. Considerando que, sem os goleiros, haviam 20 atletas em campo, quantos km cada atleta correu individualmente?





- (A) 10km.
 (B) 11km.
 (C) 22km.
 (D) 44km.

ÁREA PARA RASCUNHO

17

Observe a operação matemática abaixo e assinale o resultado correto.

$$\begin{matrix} \blacksquare & & \\ \blacksquare & \blacksquare & \\ \blacksquare & \blacksquare & \blacksquare \end{matrix} \times 2 = ?$$

- (A) 
- (B) 
- (C) 
- (D) 

18

A tabela abaixo apresenta uma lista dos itens que foram comprados para uma festa de comemoração, a quantidade e o valor de cada um.

COMPRAS DA COMEMORAÇÃO		
Carne	6kg	R\$ 28,00/Kg
Bebida	24 garrafas	R\$ 5,50/unidade
Pão	30 unidades	R\$ 0,90/unidade
Carvão	2 sacos	R\$ 53,00/unidade
Total		?

Qual o valor total gasto na compra dos itens para a comemoração?

- (A) R\$ 320,50.
- (B) R\$ 433,00.
- (C) R\$ 501,00.
- (D) R\$ 874,00.

19

Vanderlei foi à loja de material de Construção e gostou do azulejo mostrado a seguir.



Ele observou que cada lado do azulejo mede 8cm. Não sabendo qual a área do azulejo, perguntou ao vendedor.

O vendedor informou Vanderlei que a área do azulejo é de

- (A) 8 cm²
- (B) 16 cm².
- (C) 32 cm².
- (D) 64 cm².

ÁREA PARA RASCUNHO

NOÇÕES DE DIREITOS HUMANOS ?

20

A fim de promover o respeito universal e efetivo dos direitos humanos e das liberdades fundamentais, o que a Declaração Universal dos Direitos Humanos diz a respeito da escravidão?

- (A) A escravidão deverá ser tolerada em casos de pobreza ou miserabilidade.
- (B) A escravatura e o trato dos escravos, sob todas as formas, são proibidos.
- (C) Toda pessoa poderá ser mantida em escravatura ou servidão.
- (D) O trabalho escravo será permitido com autorização judicial.