



NÃO ABRA ESTE CADERNO DE QUESTÕES ANTES QUE LHE PEÇAM.

AGUARDE AUTORIZAÇÃO PARA INICIAR A PROVA.

- ♣ Desligue o celular e outros aparelhos.
- ♣ Este **Caderno de Questões** contém **30 (trinta) questões** da Prova do seu Cargo. Verifique se este caderno corresponde com a sua opção de inscrição.
- ♣ Procure responder as questões na ordem em que elas aparecem no **Caderno de Questões**. Responda a todas as questões.
- ♣ Os candidatos poderão levar consigo o caderno de questões após o tempo mínimo de permanência na sala de Provas.
- ♣ Você deve assinar a Folha de Respostas. Confira todos os seus dados (Nome, RG, Data de Nascimento) e assine no campo indicado para assinatura.
A não assinatura por parte do candidato na Folha de Respostas resultará na eliminação automática do mesmo.
- ♣ Para preenchimento da Folha de Respostas, utilize caneta esferográfica azul ou preta.
- ♣ Você deve assinalar na **Folha de Respostas** somente uma letra (alternativa) para cada questão.
- ♣ Preencha na Folha de Respostas, com caneta de tinta azul ou preta, a letra escolhida conforme o exemplo:

--	--	--	--
- ♣ Assinale apenas uma alternativa para cada questão. Mais de uma marcação anulará a resposta.
- ♣ Não será permitido substituir a Folha de Respostas. Não rasure, amasse ou dobre a Folha.
- ♣ É vedado qualquer tipo de consulta e/ou comunicação durante a Prova.
- ♣ A prova terá duração de **2 horas**.
O tempo mínimo de permanência na sala é de **1 hora**.
- ♣ Os três últimos candidatos sairão simultaneamente da sala. Havendo insistência por parte do candidato em sair da sala, este será considerado desistente do Concurso Público.
- ♣ Deixe sobre a carteira **apenas** RG, Caneta, Lápis e Borracha.
- ♣ A apresentação/entrega dos títulos será feita exclusivamente após o término da prova, em sala específica para isto.
- ♣ Qualquer dúvida, fale exclusivamente com o fiscal de sala.

BOA PROVA !

CONHECIMENTOS GERAIS

CONHECIMENTO UNIVERSAL

?

01

O evento esportivo dos Jogos Pan-americanos reúne a cada quatro anos vários atletas das américas em torno de múltiplas modalidades. A edição deste ano, sediada pela capital do Peru, reúne cerca de 6.700 competidores de 41 países, disputando medalhas em 51 modalidades. Qual a capital do Peru, sede dos Jogos Pan-americanos de 2019?

- (A) Caracas
- (B) Quito
- (C) Lima
- (D) Bogotá

02

A partir de julho, atos de homofobia e de transfobia passaram a ser enquadrados temporariamente pela lei de crime de racismo, tornando-se também inafiançável, imprescritível, com pena prevista de um a três anos de reclusão e multa. A decisão votada na Suprema Corte brasileira declarou, ainda, que o Congresso foi omissivo ao não criar legislação nesse sentido, ao longo de mais de trinta anos. O que é a Suprema Corte brasileira?

- (A) Secretaria-Geral da União
- (B) Supremo Tribunal Federal
- (C) Ministério da Defesa
- (D) Procuradoria Geral da República

03

Boris Johnson foi eleito em julho o novo, e talvez último, primeiro-ministro do Reino Unido. A apreensão em torno do futuro da ilha foi desencadeada após discurso duro em relação à saída da União Europeia até o final de outubro, com ou sem negociações. Tal posicionamento não é compactuado por todos países da federação, que temem sofrer com os impactos econômicos de um processo duro e precipitado de transição. Qual a moeda oficial do Reino Unido?

- (A) Dólar Britânico
- (B) Coroa Inglesa
- (C) Euro
- (D) Libra Esterlina

LÍNGUA PORTUGUESA

?

04

Assinale a alternativa correta quanto à concordância:

- (A) Assistem-se sempre a bons espetáculos quando este ator encena algum trabalho.
- (B) Como já era esperado, tratava-se de questões controversas sobre o zoneamento municipal.
- (C) Nunca se questionou questões tão sedimentadas nos currículos universitários.
- (D) Observa-se, com frequência, esses mesmos resultados em experimentos de outros colegas.

05

Assinale a alternativa considerada correta pela gramática normativa:

- (A) Ignora-se que os homens cujos ideais nos referimos estão sob suspeição.
- (B) Conseguimos, finalmente, a planta do prédio sob cujos alicerces estão sepultados indígenas do período de 1700.
- (C) Não duvidamos das autoras cujas as obras sempre estiveram em destaque.
- (D) É essencial que se estabeleça relações amigáveis de cujas pessoas concordamos.

Texto para as questões de 06 a 11

O tempo da delicadeza

“Tudo tem o seu tempo determinado, e há tempo para todo propósito debaixo do céu”, diz o texto sagrado. O amor também tem os seus tempos e ele muda como mudam as estações.

Nos países frios, a primavera é o tempo da pressa. Os bulbos, que por meses haviam hibernado sob o gelo, repentinamente despertam do seu sono, rompem da noite para o dia a camada de neve que os cobria e exibem, sem o menor pudor, os seus órgãos sexuais coloridos e perfumados, suas flores. “Que lindas...”, dizemos. Ignoramos que aquela é uma beleza apressada. A primavera é curta. Outro inverno virá. É preciso espalhar o sêmen com urgência, para garantir a continuidade da vida. Por isso se exibem assim, em sua nudez colorida e perfumada, para atrair os parceiros do amor.

Se as plantas pensassem, teriam os mesmos pensamentos que têm os jovens quando neles desperta o sexo, em todo o seu furor de realizar-se. É só isto que importa: o coito. Passado o êxtase, vai-se o interesse, fuma-se um cigarro, vira-se para o lado...

O verão é o tempo em que a fúria reprodutiva já se esgotou. Tempo maduro, tempo do trabalho dos filhos, das rotinas domésticas. Os mesmos olhos que se excitavam ao contemplar o corpo nu da pessoa amada já não se excitam. Já não sorriem nem têm palavras poéticas a dizer sobre ele. Há uma rotina sexual a ser cumprida. Vai-se o encantamento, os olhos e as mãos se cansam da mesmice e começam a procurar outros corpos e vem a saudade da juventude que já passou. Cumprido o ato, vem o silêncio.

O outono é a estação de uma nova descoberta. Não há urgência. Nenhuma obrigação. A natureza está tranquila. Na adolescência qualquer mulher servia, porque o sexo era comandado pelas pressões vulcânicas dos hormônios e pelos genitais. Agora o que excita é o rosto da pessoa amada. O sexo deixa de ser movido pela bioquímica que circula no sangue e passa a ser movido pela beleza. O amor se torna uma experiência estética. E o que os amantes outonais mais desejam não são os fogos de artifício do orgasmo, mas aquela voz que diz: “Como é bom que você exista...”

O outono é o tempo da tranquilidade. É bom estar juntos, de mãos dadas, sem fazer nada. É bom acariciar o cabelo da amada... Esta é a grande queixa das mulheres – que para os homens a intimidade é sempre preparatória de

uma transa. Talvez porque se sintam obrigados a provar que ainda são homens. O que as mulheres desejam não é o prazer, é felicidade. O outono é o tempo do amor feliz.

O Chico escreveu sobre esse tempo e lhe deu o nome de “tempo da delicadeza”, na canção “Todo o sentimento” (Chico Buarque e Cristovão Bastos). “Preciso não dormir até se *consumar* o tempo da gente...”

Sim, preciso não dormir, preciso não morrer, porque há muito amor ainda não realizado. Vem-me então a memória do amor que, por descuido, não se realizou, e fico em busca da sua recuperação: “Pretendo descobrir no último momento um tempo que refaz o que desfez...”

Esse verso me comove de maneira especial. Pensando no meu desajeito, na minha desatenção, vou lembrando das coisas que derrubei, das palavras que não ouvi, das flores que pisei. E dá uma vontade de fazer o tempo voltar para poder refazer o que foi desfeito, para recolher todo o sentimento e colocá-lo no corpo outra vez...

Aí ele vai mansamente dizendo as palavras que o amor deve saber dizer, palavras que só existem no “tempo da delicadeza”. “Prometo te querer até o amor cair doente, doente...” Por isso, por causa desse tempo misterioso, é preciso amar cuidadosamente com o olhar, com os ouvidos, com a mão que tateia para não ferir... enquanto há tempo.

Lembrei do amor de *Florentino Ariza* por *Fermina Daza*, de o ‘Amor nos tempos do cólera’. Tiveram de esperar 53 anos e passaram o resto da vida navegando no rio da delicadeza.

– Rubem Alves, texto publicado originalmente no ‘Correio Popular de Campinas’, em 10 de agosto de 2008.

06

Sobre o uso das vírgulas em “Os bulbos, que por meses haviam hibernado sob o gelo, repentinamente despertam do seu sono (...)”, é correto afirmar que:

- (A) Está correto, pois tem por função especificar seu referente anterior.
- (B) Está correto, pois tem por função explicar algo sobre seu referente anterior, generalizando-o.
- (C) Está incorreto e deveriam ser retiradas, pois é preciso generalizar o referente anterior, o que só ocorreria se o fragmento estivesse sem as vírgulas.
- (D) Está intimamente ligado ao estilo do autor, para que haja uma suspensão ou pausa na leitura, enfatizando a passagem.

07

Em “É preciso espalhar o sêmen com urgência, para garantir a continuidade da vida. Por isso se exibem assim, em sua nudez colorida e perfumada, para atrair os parceiros do amor”, os termos em destaque estabelecem ideia de:

- (A) Causa.
- (B) Consequência.
- (C) Finalidade.
- (D) Condição.

08

Em “Preciso não dormir até se *consumar* o tempo da gente...”, o termo em destaque poderia ser substituído,

sem alteração de sentido e fazendo-se as adaptações necessárias, por:

- (A) Realizar.
- (B) Esgotar.
- (C) Construir.
- (D) Pagar.

09

Em “Esta é a grande queixa das mulheres – que para os homens a intimidade é sempre preparatória de uma transa”, o conectivo em destaque poderia ser substituído, mantendo-se a mesma relação semântica, por:

- (A) Embora.
- (B) Pois.
- (C) Entretanto.
- (D) A fim de que.

10

Em “Lembrei do amor de *Florentino Ariza* por *Fermina Daza (...)*”, se substituíssemos o termo em destaque pelo seu antônimo, mantendo-se a indicação da gramática normativa e o sentido original, teríamos:

- (A) Não me esqueci do amor de *Florentino Ariza* por *Fermina Daza (...)*
- (B) Não esqueci do amor de *Florentino Ariza* por *Fermina Daza (...)*
- (C) Refleti sobre o amor de *Florentino Ariza* por *Fermina Daza (...)*
- (D) Assombrei-me do amor de *Florentino Ariza* por *Fermina Daza (...)*

11

Sobre o texto, é correto afirmar que ele aborda, essencialmente:

- (A) O amor juvenil, representado pelo verão.
- (B) O amor maduro, representado pela primavera.
- (C) O amor juvenil, representado pela primavera.
- (D) O amor maduro, representado pelo outono.

MATEMÁTICA

?

12


Considerando as relações de parentesco, assinale a alternativa que complementa de modo logicamente válido a afirmação abaixo.

Meu avô jamais será pai de ...





- (A) minha tia
- (B) meu pai
- (C) meu bisavô
- (D) minha mãe

13

Um pentágono foi totalmente desmontado de acordo com a seguinte ordem:



Qual peça foi a última na desmontagem do pentágono?

- (A) 
- (B) 
- (C) 
- (D) 

14

Analisando o questionário socioeconômico dos estudantes da faculdade, o administrador observou o resultado da declaração de bens eletrônicos abaixo:

Autodeclaração de Bens Eletrônicos	
Televisor	455
Computador	318
Não declarado	92

Sabendo que a faculdade possui 621 estudantes, foi possível concluir que quantos estudantes possuíam televisor e computador?

- (A) 244
- (B) 318
- (C) 455
- (D) 773

ÁREA PARA RASCUNHO

CONHECIMENTOS ESPECÍFICOS

CONHECIMENTO ESPECÍFICO TÉCNICO

?

15

Sobre os Créditos Adicionais é correto afirmar:

- (A) Uma vez aprovados os Créditos Adicionais, sempre incorporam-se ao orçamento do exercício seguinte.
- (B) Os Créditos Especiais destinam-se ao reforço de uma dotação orçamentária já existente.
- (C) Os Créditos Especiais não dependem de autorização legislativa.
- (D) Os Créditos Extraordinários pressupõem uma situação de urgência ou imprevisão, tal como guerra, comoção interna ou calamidade pública.

16

De acordo com os princípios do Orçamento Público, assinale a melhor definição do princípio da Exatidão:

- (A) O orçamento deve ser elaborado e autorizado para um determinado período de tempo, geralmente um ano. A exceção se dá nos créditos especiais e extraordinário autorizados nos últimos quatro meses do exercício, reabertos nos limites de seus saldos, serão incorporados ao orçamento do exercício subsequente.
- (B) Nenhuma parcela da receita geral poderá ser reservada ou comprometida para atender a certos casos ou a determinado gasto. Ou seja, a receita não pode ter vinculações. Essas reduzem o grau de liberdade do gestor e engessa o planejamento de longo, médio e curto prazos.
- (C) Todas as parcelas da receita e da despesa devem aparecer no orçamento em seus valores brutos, sem qualquer tipo de dedução. A intenção é a de impedir a inclusão de valores líquidos ou de saldos resultantes do confronto entre receitas e as despesas de determinado serviço público.
- (D) De acordo com esse princípio as estimativas devem ser tão exatas quanto possível, de forma a garantir à peça orçamentária um mínimo de consistência para que possa ser empregado como instrumento de programação, gerência e controle.

17

O recebimento no Caixa do Tesouro de um recurso resultado de uma operação de alienação de um bem imóvel é uma:

- (A) Receita Patrimonial.
- (B) Receita de Capital.
- (C) Receita Industrial.
- (D) Receita de Caixa.

18

Não é um exemplo de Despesa de Capital:

- (A) Material de Consumo.
- (B) Obras Públicas.
- (C) Equipamentos e Instalações.
- (D) Amortização da Dívida Pública.

19

O objeto da Contabilidade Aplicada ao Setor Público é:

- (A) A adequada Prestação de Contas.
- (B) O Patrimônio Público.
- (C) O Controle Social.
- (D) O fornecimento de informações para à tomada de decisões.

20

Sobre a Contabilidade Aplicada ao Setor Público, as entidades abrangidas pelo campo de aplicação devem observar as normas e as técnicas próprias, considerando-se:

- I- **Integralmente, as entidades governamentais.**
- II- **Integralmente, os conselhos profissionais.**
- III- **Parcialmente, os serviços sociais.**
- IV- **Parcialmente, as demais entidades do setor público, para garantir procedimentos suficientes de prestação de contas e instrumentalização do controle social.**

Dos itens acima:

- (A) Apenas os itens I e III estão corretos.
- (B) Apenas os itens I, II e IV estão corretos.
- (C) Apenas os itens II e III estão corretos.
- (D) Apenas os itens I e IV estão corretos.

21

Os subsistemas contábeis devem ser integrados entre si e a outros subsistemas de informações de modo a subsidiar a Administração Pública sobre:

- I- **Desempenho da unidade contábil no cumprimento da sua missão.**
- II- **Avaliação dos resultados obtidos na execução dos programas de trabalho com relação à economicidade, à eficiência, à eficácia e à efetividade.**
- III- **Avaliação das metas estabelecidas pelo planejamento.**
- IV- **Avaliação dos riscos e das contingências.**

Dos itens acima

- (A) Apenas os itens I e III estão corretos.
- (B) Apenas os itens I, II e IV estão corretos.
- (C) Apenas os itens I, III e IV estão corretos.
- (D) Todos os itens estão corretos.

22

Qual dos itens abaixo é parte da Lei de Diretrizes Orçamentárias?

- (A) A política de aplicação das agências financeiras oficiais de fomento.
- (B) Orçamentos Fiscal e da Seguridade.
- (C) O Orçamento da Seguridade Social.

- (D) Orçamento de Investimento das Estatais

23

É um instrumento de fiscalização do Tribunal de Contas da União:

- (A) Reprovação das Contas.
- (B) Parecer.
- (C) Defesa prévia.
- (D) Inspeção.

24

São tipos de organizações qualificáveis para se tornarem Organizações da Sociedade Civil de Interesse Público:

- (A) As associações de defesa do meio ambiente.
- (B) As organizações sociais.
- (C) As cooperativas.
- (D) As fundações públicas.

25

Assinale a melhor definição de Restos a Pagar processados:

- (A) Quando o credor já realizou seu serviço previstos em contrato dentro do exercício, tendo o direito líquido de receber o pagamento.
- (B) Quando ainda não foi apurado se o credor realizou o serviço ou entregou o material.
- (C) Quando as despesas estão empenhados, mas não estão liquidadas
- (D) Quando os restos a pagar inscritos nessa condição terão validade até 30 de **junho** do segundo ano subsequente ao de sua inscrição.

26

Em cada ano, será elaborado um orçamento, que pormenorizará a etapa do Plano Plurianual a ser realizada no exercício seguinte e que servirá de roteiro à execução coordenada do programa anual. Esse é uma definição de:

- (A) Orçamento Programa.
- (B) Orçamento Base Zero.
- (C) Orçamento por Projetos.
- (D) Orçamento Desempenho.

27

O montante de um investimento financeiro foi de R\$ 56.268,66, a uma taxa juros compostos mensais de 12%. Com um investimento inicial de R\$ 1336,89. Quanto tempo durou a aplicação?

- (A) 39 meses.
- (B) 30 meses.
- (C) 33 meses.
- (D) 36 meses.

28

Com uma aplicação inicial de R\$ 1.538,32, com um aporte mensal de R\$ 100,00, com uma taxa de juros composto mensais de 2,5% no final de 38 meses o montante será de:

- (A) R\$ 10.153,74

- (B) R\$ 4.815,42
- (C) R\$ 11.053,64
- (D) R\$ 5.338,32

29

Aplicando um valor inicial de R\$ 3.385,24, com aporte mensal de R\$ 135,99, com uma taxa de juros compostos mensais de 1,25% ao final de 24 meses qual será a soma das aplicações?

- (A) R\$ 6.649,00
- (B) R\$ 1.690,87
- (C) R\$ 8.339,87
- (D) R\$ 3.263,76

30

Em uma aplicação de 98 meses, o valor inicial foi de R\$ 29.475,22 e mensalmente foi aportado R\$ 785,21 e o montante final foi de R\$ 110.353,93. Qual foi a taxa de juros composto mensal?

- (A) 0,058%
- (B) 0,58%
- (C) 0,585%
- (D) 0,0558%

ÁREA PARA RASCUNHO

ÁREA PARA RASCUNHO

ÁREA PARA RASCUNHO

