



PREFEITURA MUNICIPAL DE CAMPOS DO JORDÃO

Estado de São Paulo

AGENTE DE TRÂNSITO

CONCURSO PÚBLICO
02/2019

NÃO ABRA ESTE CADERNO DE QUESTÕES ANTES QUE LHE PEÇAM.

AGUARDE AUTORIZAÇÃO PARA INICIAR A PROVA.

- ♣ Desligue o celular e outros aparelhos.
- ♣ Este **Caderno de Questões** contém **30 (trinta) questões** da Prova do seu Cargo. Verifique se este caderno corresponde com a sua opção de inscrição.
- ♣ Procure responder as questões na ordem em que elas aparecem no **Caderno de Questões**. Responda a todas as questões.
- ♣ Os candidatos poderão levar consigo o caderno de questões após o tempo mínimo de permanência na sala de Provas.
- ♣ Você deve assinar a Folha de Respostas. Confira todos os seus dados (Nome, RG, Data de Nascimento) e assine no campo indicado para assinatura.
A não assinatura por parte do candidato na Folha de Respostas resultará na eliminação automática do mesmo.
- ♣ Para preenchimento da Folha de Respostas, utilize caneta esferográfica azul ou preta.
- ♣ Você deve assinalar na **Folha de Respostas** somente uma letra (alternativa) para cada questão.
- ♣ Preencha na Folha de Respostas, com caneta de tinta azul ou preta, a letra escolhida conforme o exemplo:

--	--	--	--
- ♣ Assinale apenas uma alternativa para cada questão. Mais de uma marcação anulará a resposta.
- ♣ Não será permitido substituir a Folha de Respostas. Não rasure, amasse ou dobre a Folha.
- ♣ É vedado qualquer tipo de consulta e/ou comunicação durante a Prova.
- ♣ A prova terá duração de **2 horas**.
O tempo mínimo de permanência na sala é de **1 hora**.
- ♣ Sairão simultaneamente os 3 (três) últimos candidatos de cada sala. Havendo insistência por parte do candidato em sair da sala, este será considerado desistente do Concurso Público.
- ♣ Deixe sobre a carteira **apenas** RG, Caneta, Lápis e Borracha.
- ♣ Qualquer dúvida, fale exclusivamente com o fiscal de sala.

BOA PROVA !

CONHECIMENTOS GERAIS

CONHECIMENTO UNIVERSAL

01

"O ministro da Economia falou nesta segunda-feira (25/11/19), em entrevista coletiva, depois de evento no Banco Interamericano de Desenvolvimento (BID), em Washington, sobre o novo recorde do dólar comercial, que atingiu R\$ 4,213. 'Eu não estou preocupado com a alta do dólar', afirmou o ministro. 'Pelo contrário. Achei absolutamente compreensível.' O dólar comercial registrou valorização nesta segunda-feira devido a dados decepcionantes das contas externas, cujo déficit atingiu 3% do PIB, no resultado acumulado para o período de 12 meses findo em outubro."

Fonte: Adaptado de O Globo, 26/11/2019. Disponível em <<https://tinyurl.com/u4ykjxk>>

Assinale o nome do ministro da Economia do Brasil:

- (A) Abraham Weintreub
- (B) Guido Mantega
- (C) Henrique Meirelles
- (D) Paulo Guedes

02

"A Comissão de Integração Nacional, Desenvolvimento Regional e da Amazônia rejeitou nesta quarta-feira (11/12/19) proposta que torna os recifes de corais da foz do Rio Amazonas, localizados no litoral do Pará e do Amapá, como Área de Preservação Permanente (APP). Avistados pela primeira vez em 2010 pelos pesquisadores, os recifes da foz do Rio Amazonas formam o que os cientistas chamam de Grande Sistema de Recifes do Amazonas, com 56 mil quilômetros quadrados de extensão. A descoberta causou surpresa, pois pensava-se que estas formações se davam bem apenas em águas cristalinas. Os recifes amazônicos estão alojados em águas profundas e barrentas, de até 120 metros de profundidade. Em vez de usarem a luz do sol, esses organismos utilizam compostos inorgânicos, como o ferro, nitritos e o enxofre, para gerar a energia necessária para sobreviverem."

Fonte: Adaptado de Agência Câmara Notícias, 11/12/2019. Disponível em

<<https://tinyurl.com/v63qgrh>>

Assinale o nome do rio que não faz parte da bacia amazônica:

- (A) Amazonas
- (B) Negro
- (C) São Francisco
- (D) Xingu

LÍNGUA PORTUGUESA

?

Texto para as questões de 03 a 08

E o mundo não se acabou

(1938)

(Assis Valente)

Anunciaram e garantiram
 Que o mundo ia se acabar
Por causa disso
 Minha gente lá de casa
 Começou a rezar
 E até disseram que o sol
 Ia nascer antes da madrugada
 Por causa disso nessa noite
 Lá no morro
 Não se fez batucada

Acreditei nessa conversa mole
 Pensei que o mundo ia se acabar
 E fui tratando de me despedir
 E sem demora fui tratando
 De aproveitar
 Beijei a boca
 De quem não devia
 Peguei na mão
 De quem não conhecia
 Dancei um samba
 Em traje de maiô
 E o tal do mundo
 Não se acabou
 (...)
 Chamei um gajo
 Com quem não me dava
 E perdoei a sua ingratidão
 E festejando o acontecimento
 Gastei com ele
 Mais de quinhentão
 Agora eu soube
 Que o gajo anda
 Dizendo coisa
 Que não se passou
 Vai ter barulho
 Vai ter confusão
 Porque o mundo não se acabou

03

Na passagem "Anunciaram e garantiram/ Que o mundo ia se acabar/ Por causa disso/ Minha gente lá de casa/ Começou a rezar", considerando o contexto, o termo em destaque estabelece ideia de:

- (A) Causa
- (B) Finalidade
- (C) Conclusão
- (D) Consequência

04

Em “*E até disseram que o sol ia nascer antes da madrugada*”, o termo em destaque tem por finalidade:

- (A) Intensificar o ato de dizer.
- (B) Incluir algo em relação ao que é dito.
- (C) Excluir o que se diz.
- (D) Suavizar a afirmação sobre o fim do mundo.

05

Segundo a gramática normativa, se substituíssemos o termo grifado em “*Por causa disso nessa noite/ Lá no morro/ Não se fez batucada*” por ‘sambas’, mantendo-se o mesmo tempo e o mesmo modo verbais, teríamos:

- (A) “Por causa disso nessa noite/ Lá no morro/ Não se fez sambas”
- (B) “Por causa disso nessa noite/ Lá no morro/ Não se fizeram sambas”
- (C) “Por causa disso nessa noite/ Lá no morro/ Não se faz sambas”
- (D) “Por causa disso nessa noite/ Lá no morro/ Não se fazem sambas”

06

Em “*Chamei um gajo/ Com quem não me dava*”, se a expressão em destaque fosse substituída pelo verbo gostar, mantendo-se os mesmos tempo e modo verbais, teríamos, segundo a gramática normativa:

- (A) “Chamei um gajo/ que eu não gostava”
- (B) “Chamei um gajo/ de quem eu não gostava”
- (C) “Chamei um gajo/ com quem eu não gostava”
- (D) “Chamei um gajo/ a quem eu não gostava”

07

No texto, a passagem “*Dancei um samba/ Em traje de maiô/ E o tal do mundo/ Não se acabou*” contém um elemento em destaque que, pelo contexto, sugere:

- (A) Valorização do mundo, uma vez que o fim da humanidade estaria determinado.
- (B) Desprezo pela sociedade, pois a letra retrata a hipocrisia social.
- (C) Desvalorização irônica do mundo, que está prestes a acabar, posicionamento justificado pelas atitudes do eu-lírico descritas ao longo da composição.
- (D) Angústia do eu-lírico diante de sua existência repleta de erros, de valores superficiais e de posicionamentos equivocados.

08

A letra da canção acima se vale, em vários momentos, da variante informal e da variante formal da língua, ambas no plano conversacional, sobressaindo-se, entretanto, aquela sobre esta. Sobre o uso da variante informal, no tom coloquial, é correto afirmar que ela é usada com a finalidade de:

- (A) Causar estranhamento no interlocutor.
- (B) Instituir um tom formal, de distanciamento e de respeitabilidade.
- (C) Gerar humor e fazer com que o interlocutor não se identifique com a produção artística.
- (D) Estabelecer a aproximação entre a composição e o leitor, de forma a construir o processo de identificação deste com o que se afirma na narrativa.

MATEMÁTICA

?

09

Um jogador de basquete fez, nos quatro primeiros jogos da temporada, 48 cestas que valeram dois ou três pontos cada. No total ele marcou 108 pontos. Comparando os dois tipos de cestas, pode se afirmar que:

- (A) Ele marcou três vezes mais cestas de 3 pontos
- (B) Ele marcou três vezes mais cestas de 2 pontos
- (C) Ele marcou duas vezes mais cestas de 2 pontos
- (D) Ele marcou duas vezes mais cestas de três pontos

10

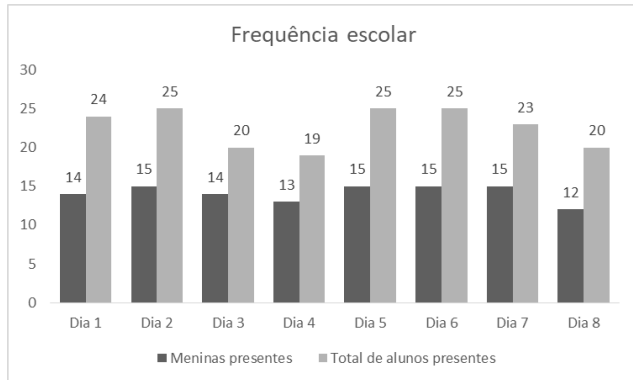
Pedro contratou um engenheiro para projetar a planta de sua residência e quando recebeu o projeto percebeu que os desenhos formavam um retângulo que, uma vez construída a casa, gerariam uma residência de 80 m². Como ele tinha mais terreno disponível pediu para o engenheiro continuar o mesmo desenho e disposição da casa, alterando apenas a área para que se construísse uma residência proporcionalmente 40% maior. Um dos quartos da construção inicial media 7,5 m². Nas condições da nova planta, quanto de área a mais terá este quarto?

- (A) 3 m²
- (B) 6,5 m²
- (C) 10,5 m²
- (D) 12 m²

ÁREA PARA
RASCUNHO

11

Uma turma escolar é composta de 25 estudante e o gráfico abaixo foi criado a partir da contagem da professora entre os presentes e a quantidade de meninas presentes na aula. A escolha por inserir a quantidade de meninas no gráfico se deu por ser uma turma onde elas representam três quintos da quantidade total de estudantes. A partir da interpretação deste gráfico, pode se afirmar que todos os meninos foram na aula em quantos dos dias apurados?

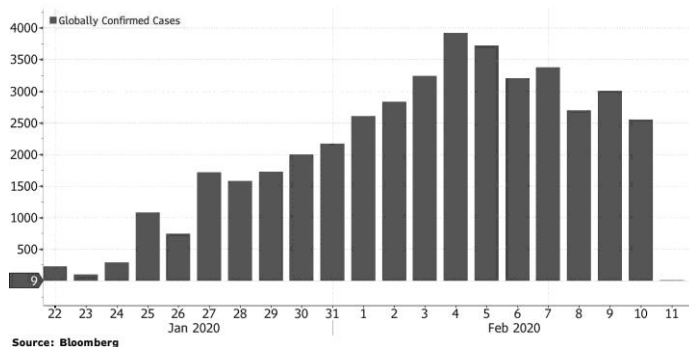


- (A) 1
- (B) 2
- (C) 3
- (D) 4

ÁREA PARA RASCUNHO

12

O gráfico abaixo mostra a evolução dos casos do novo coronavírus (covid-19) no final de janeiro e começo de fevereiro no mundo todo:



Vemos claramente que após o dia 04 de fevereiro, ocorre uma diminuição mundial no número de casos confirmados. Analisando os casos confirmados entre o dia 4 e o dia 10 de fevereiro podemos dizer que essa diminuição foi de aproximadamente

- (A) 62,5 %.
- (B) 45,5 % .
- (C) 37,5 % .
- (D) 20,5 %.

13

O índice de massa corporal (IMC) algumas vezes é considerado impreciso porque não consegue distinguir massa óssea, massa muscular e excesso de gordura.

Para melhorar, cientista desenvolveram e publicaram na revista *Scientific Reports*, uma nova fórmula chamada de índice de massa gorda relativa, ou RFM, e usa apenas as medidas de altura e circunferência da cintura como podemos ver:

$$64 - (20 \times \text{altura} / \text{circunferência da cintura}) \\ = \text{RFM para homens}$$

$$76 - (20 \times \text{altura} / \text{circunferência da cintura}) \\ = \text{RFM para mulheres}$$

Um homem com 180 cm de altura e uma circunferência da cintura igual a 95 cm, possui um RFM de aproximadamente:

- (A) 26,11 .
- (B) 38,11 .
- (C) 53,44 .
- (D) 65,44 .

ÁREA PARA
RASCUNHO

14

O oposto do inverso de 3, elevado ao inverso do oposto de 5 resulta em:

- (A) raiz cúbica de -3.
- (B) raiz quinta de -3.
- (C) raiz quadrada de -3.
- (D) raiz quarta de -3.

ÁREA PARA
RASCUNHO

NOÇÕES DE INFORMÁTICA

?

15

Um dos benefícios de se trabalhar com arquivos digitais é a facilidade de reprodução integral deles ou de parte de seu conteúdo, por meio da combinação das famosas teclas de atalho "Ctrl+C" e "Ctrl+V". Ao se pressionar "Ctrl+C", onde o sistema operacional armazena temporariamente uma cópia do conteúdo selecionado?

- (A) Disco Rígido
- (B) Área de Transferência
- (C) Área de Trabalho
- (D) Pasta Auxiliar de Troca

16

Foi solicitado ao estagiário de uma empresa que fossem impressas a capa de um documento no formato .docx e as páginas 21, 22 e 23. Qual formato deverá ser preenchido no campo de customização do *Intervalo de Páginas* para impressão?

- (A) C, 21, 22, 23
- (B) 0, 21- 22 - 23
- (C) 1 - 21 - 23
- (D) 1, 21-23

CONHECIMENTOS ESPECÍFICOS

17

Os veículos destinados a socorro de incêndio e salvamento, além de prioridade de trânsito, gozam de:

- (A) Circulação em horários específicos.
- (B) Estacionamento e parada, desde que não haja cobrança particular no local.
- (C) Livre circulação desde que esteja em serviço de urgência e devidamente identificados.
- (D) Não há prioridade para os veículos destinados a socorro de incêndio e salvamento.

18

O Pisca-alerta é um item de segurança obrigatório em automóveis. Assinale a alternativa que apresenta corretamente uma situação em que o condutor deverá utilizar o pisca-alerta:

- (A) Em condução em alta velocidade.
- (B) Em imobilizações ou situações de emergência.
- (C) Somente quando a regulamentação da via assim o autorizar.
- (D) Somente quando ocorrer um acidente.

19

Considerando o grau das infrações de trânsito, assinale a alternativa que apresenta uma infração gravíssima:

- (A) Deixar o condutor de prestar socorro à vítima de acidente de trânsito quando solicitado pela autoridade e seus agentes.
- (B) Deixar o condutor, envolvido em acidente sem vítima, de adotar providências para remover o veículo do local, quando necessária tal medida para assegurar a segurança e a fluidez do trânsito.
- (C) Fazer ou deixar que se faça reparo em veículo na via pública, salvo nos casos de impedimento absoluto de sua remoção e em que o veículo esteja devidamente sinalizado em pista de rolamento de rodovias e vias de trânsito rápido.
- (D) Deixar o condutor envolvido em acidente com vítima de adotar providências, podendo fazê-lo, no sentido de evitar perigo para o trânsito no local.

20

O sujeito ativo de uma infração penal é aquele que comete o crime, praticando a conduta descrita na lei penal incriminadora. Pode ser sujeito ativo no crime de abuso de autoridade:

- (A) Quem exerce cargo, emprego ou função pública, de natureza civil, ou militar, apenas permanentemente.
- (B) Quem exerce cargo, emprego ou função pública, de natureza civil, ou militar, ainda que transitoriamente e sem remuneração.
- (C) Quem exerce cargo, emprego ou função pública, de natureza civil, ou militar, ainda que transitoriamente, porém apenas se mediante remuneração.
- (D) Quem exerce cargo, emprego ou função pública, ou privada de natureza civil, ou militar, ainda que

transitoriamente, porém apenas se mediante remuneração.

21

A Lei de Abuso de Autoridade diz que a conduta consistente em “submeter pessoa sob sua guarda ou custódia a vexame ou a constrangimento não autorizado em lei” é crime de abuso de autoridade. Quanto ao crime de abuso de autoridade, assinale a alternativa correta:

- (A) O funcionário público exonerado ou aposentado não pode cometer o crime de abuso de autoridade.
- (B) O funcionário público exonerado ou aposentado pode cometer o crime de abuso de autoridade em qualquer hipótese.
- (C) O funcionário público exonerado ou aposentado só pode cometer o crime de abuso de autoridade se invocar seu antigo cargo praticá-lo.
- (D) O funcionário público exonerado ou aposentado não pode cometer o crime de abuso de autoridade apenas se a vítima não souber da situação de aposentadoria.

22

O abuso de autoridade sujeitará o seu autor à sanção administrativa civil e penal. Com relação às sanções administrativas que podem ser aplicadas, marque a opção que não corresponde a uma dessas sanções:

- (A) Advertência e repreensão.
- (B) Suspensão do cargo, função ou posto por prazo de cinco a cento e oitenta dias, com perda de vencimentos e vantagens
- (C) Ajuste de função;
- (D) Demissão a bem do serviço público.

23

Com base, na Lei Federal nº4.898/1965, não irá constituir abuso de autoridade:

- (A) qualquer ato atentatório à dignidade da pessoa humana.
- (B) qualquer atentado aos direitos e garantias legais assegurados ao exercício do voto;
- (C) qualquer atentado à incolumidade física do indivíduo;
- (D) qualquer ato atentatório aos direitos e garantias legais assegurados ao exercício profissional

24

Quanto às disposições legais sobre a apresentação e uso de documentos de identificação pessoal, assinale a alternativa correta:

- (A) A pessoa jurídica de direito público pode reter documento de identificação pessoal apresentado por fotocópia autenticada.
- (B) A pessoa física de direito público está autorizada a reter documento de identificação pessoal de pessoa infratora.
- (C) As pessoas públicas só podem reter documentos pessoais secundários, como por exemplo certidão de nascimento.

- (D) Nenhum documento de identificação pode ser retido por pessoa física, bem como a nenhuma pessoa jurídica, de direito público ou de direito privado.

25

A retenção de documentos pessoais é considerada contravenção penal. Quanto à responsabilização penal de preposto ou agente de pessoa jurídica, assinale a alternativa correta:

- (A) O preposto que desobedecendo ordem de superior, deixar de reter documento de identificação pessoal será responsabilizado por crime de desobediência.
- (B) O agente de pessoa jurídica que reter documento de identificação pessoal não será responsabilizado, independentemente de ordem superior.
- (C) Quando retenção de documento pessoal for praticada por preposto, considerar-se-á responsável quem houver ordenado o ato que ensejou a retenção.
- (D) Em nenhuma hipótese quem ordenou o ato de retenção poderá ser responsabilizado por ato praticado por terceiro preposto.

26

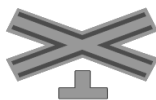
Quando, para a realização de determinado ato, for exigida a apresentação de documento de identificação, a pessoa que fizer a exigência fará extrair, no prazo de até _____, os dados que interessarem devolvendo, em seguida, o documento ao seu exibidor.

Marque a alternativa que, corretamente, preenche a lacuna acima:

- (A) 5 (cinco) dias.
- (B) 7 (sete) dias.
- (C) 10 (dez) dias.
- (D) 15 (quinze) dias.

27

Com relação à sinalização de trânsito, a placa, abaixo, apresentada, possui a seguinte denominação:



- (A) Passagem de nível com barreira
- (B) Passagem de nível sem barreira
- (C) Cruz de Santo André
- (D) Ponte móvel

28

Analise as afirmações que seguem no tocante a condução do veículo, e assinale a alternativa correta.

Conduzir o veículo:

- I - com o lacre, a inscrição do chassi, o selo, a placa ou qualquer outro elemento de identificação do veículo violado ou falsificado, configura infração gravíssima.

II - com dispositivo antirradar, configura infração gravíssima.

III - sem qualquer uma das placas de identificação, configura infração grave.

É correto o que se afirma em:

- (A) I e II somente.
- (B) II e III somente.
- (C) I e III somente.
- (D) I, II e III.

29

É correto afirmar que a cada infração cometida são computados, os seguintes números de pontos:

- (A) infração gravíssima - seis pontos.
- (B) infração grave - cinco pontos.
- (C) infração média - três pontos.
- (D) infração leve - dois pontos.

30

Entre algumas medidas que visam à defesa do meio ambiente, temos algumas normas de trânsito que visam a diminuir a poluição sonora causada pelos automóveis.

Entre estas, é incorreto, afirmar:

- (A) Para fazer as advertências necessárias a fim de evitar acidentes o condutor de veículo poderá fazer uso de buzina, desde que em toque breve.
- (B) Será aplicada a medida administrativa de retenção aos veículos reprovados, na inspeção de segurança e na de emissão de gases poluentes e ruído.
- (C) Usar, indevidamente, no veículo, aparelho de alarme ou que produza sons e ruído que perturbem o sossego público, em desacordo com normas fixadas pelo CONTRAN, configura uma infração média.
- (D) Dentro das áreas urbanas, quando for conveniente advertir a um condutor que se tem o propósito de ultrapassá-lo, o condutor de veículo poderá fazer uso de buzina.