



# PREFEITURA MUNICIPAL DE CAMPOS DO JORDÃO

Estado de São Paulo

## AGENTE DE SINALIZAÇÃO VIÁRIA

CONCURSO PÚBLICO  
02/2019

**NÃO ABRA ESTE CADERNO DE QUESTÕES ANTES QUE LHE PEÇAM.**

**AGUARDE AUTORIZAÇÃO PARA INICIAR A PROVA.**

- ♣ Desligue o celular e outros aparelhos.
- ♣ Este **Caderno de Questões** contém **30 (trinta) questões** da Prova do seu Cargo. Verifique se este caderno corresponde com a sua opção de inscrição.
- ♣ Procure responder as questões na ordem em que elas aparecem no **Caderno de Questões**. Responda a todas as questões.
- ♣ Os candidatos poderão levar consigo o caderno de questões após o tempo mínimo de permanência na sala de Provas.
- ♣ Você deve assinar a Folha de Respostas. Confira todos os seus dados (Nome, RG, Data de Nascimento) e assine no campo indicado para assinatura.  
A não assinatura por parte do candidato na Folha de Respostas resultará na eliminação automática do mesmo.
- ♣ Para preenchimento da Folha de Respostas, utilize caneta esferográfica azul ou preta.
- ♣ Você deve assinalar na **Folha de Respostas** somente uma letra (alternativa) para cada questão.
- ♣ Preencha na Folha de Respostas, com caneta de tinta azul ou preta, a letra escolhida conforme o exemplo:  

--	--	--	--
- ♣ Assinale apenas uma alternativa para cada questão. Mais de uma marcação anulará a resposta.
- ♣ Não será permitido substituir a Folha de Respostas. Não rasure, amasse ou dobre a Folha.
- ♣ É vedado qualquer tipo de consulta e/ou comunicação durante a Prova.
- ♣ A prova terá duração de **2 horas**.  
O tempo mínimo de permanência na sala é de **1 hora**.
- ♣ Sairão simultaneamente os 3 (três) últimos candidatos de cada sala. Havendo insistência por parte do candidato em sair da sala, este será considerado desistente do Concurso Público.
- ♣ Deixe sobre a carteira **apenas** RG, Caneta, Lápis e Borracha.
- ♣ Qualquer dúvida, fale exclusivamente com o fiscal de sala.

**BOA PROVA !**

## CONHECIMENTOS GERAIS

### CONHECIMENTO UNIVERSAL

01

" O ano de 2019 foi conturbado para os membros do Supremo Tribunal Federal (STF). Em meio a diversas votações controversas, como a derrubada da prisão em segunda instância e a criminalização da homofobia, e protestos de rua que os colocaram como alvo, o número de pedidos de impeachment dos magistrados atingiu neste ano um patamar recorde. Desde janeiro, foram 14 representações contra integrantes da Corte, cinco a mais do que no ano passado. O presidente do STF é o mais visado. Metade das tentativas protocoladas neste ano foram para que ele perdesse o cargo. No entanto, o Senado, responsável por dar continuidade aos pedidos, engavetou todos os pedidos de destituição dos magistrados. Veja a seguir os sete julgamentos com maior repercussão neste ano: 1. Criminalização da homofobia; 2. Competência da Justiça eleitoral; 3. Crédito tributário da Zona Franca de Manaus; 4. Privatização de subsidiárias; 5. Ordem das alegações em casos de delação premiada; 6. Fim da prisão em 2ª instância; 7. Compartilhamento de dados pelo Coaf."

Fonte: CERIONI, Clara. "Relembra as 7 votações no STF que definiram 2019", Exame, 28/12/2019. Disponível em <<https://tinyurl.com/qrc714>>

Quem era o presidente do Supremo Tribunal Federal em 2019?

- (A) Dias Toffoli
- (B) Gilmar Mendes
- (C) Jair Bolsonaro
- (D) Rodrigo Maia

02

"As eleições diretas representam um avanço histórico na forma em que os brasileiros elegem seus governantes desde que foi promulgada a Constituição de 1988. Em 2020, será realizado mais um ano para eleições, que levarão milhões de brasileiros as urnas em todo o Brasil para escolherem os prefeitos e vereadores de suas respectivas cidades. Com data de realização agendada para 04 de Outubro de 2020, a próxima corrida eleitoral será marcada de algumas novidades, a principal dela, sendo a de proibição de alianças quanto a disputa para as cadeiras da câmara de vereadores, sendo somente permitida a realização de alianças para os cargos do executivo, ou seja, prefeito e vice-prefeito."

Fonte: CUNHA, Márcio. Jornal Opção, 24/11/2019. Disponível em <<https://tinyurl.com/yx3j2omn>>

Quando é a periodicidade das eleições gerais no Brasil?

- (A) a cada ano
- (B) a cada dois anos
- (C) a cada três anos
- (D) a cada quatro anos

## LÍNGUA PORTUGUESA

?

Texto para as questões de 03 a 08

### A flor no asfalto

Otto Lara Rezende

Conheço essa estrada genocida, o começo da Rio-Petrópolis. Duvido que se encontre um trecho rodoviário ou urbano mais assassino do que esse. São tantos os acidentes que já nem se abre inquérito. Quem atravessa a avenida Brasil fora da passarela quer morrer. Se morre, ninguém liga. Aparece aquela velinha acesa, o corpo é coberto por uma folha de jornal e pronto. Não se fala mais nisso.

Teria sido o destino de dona Creusa, se não levasse nas entranhas a própria vida. Na pista que vem para o Rio, a 20 metros da passarela de pedestres, dona Creusa foi apanhada por uma Kombi. O motorista tentou parar e não conseguiu. Em seguida, veio um outro carro, um Apollo, e sobreveio o segundo atropelamento. A mesma vítima. Ferida, o ventre aberto pelas ferragens, deu-se aí o milagre.

Dona Creusa estava grávida e morreu na hora. Mas no asfalto, expelida com a placenta, apareceu uma criança. Coberta a mãe com um plástico azul, um estudante pegou o bebê e o levou para o acostamento. Nunca tinha visto um parto na sua vida. Entre os curiosos, uma mulher amarrou o umbigo da recém-nascida. Uma menina. Por sorte, vinha vindo uma ambulância. Depois de chorar no asfalto, o bebê foi levado para o hospital de Xerém.

Dona Creusa, aos 44 anos, já era avó, mãe de vários filhos e viúva. Pobre, concentração humana de experiências e de dores, tinha pressa de viver. E era uma pilha carregada de vida. Quem devia estar ali era sua nora Marizete. Mas dona Creusa se ofereceu para ir no seu lugar porque, grávida, não pagava a passagem. Com o dinheiro do ônibus podia comprar sabão. Levava uma bolsa preta, com um coração de cartolina vermelha.

No cartão estava escrito: quinta-feira. Foi o dia do atropelamento. Apolo é o símbolo da vitória sobre a violência. Diz o poeta Píndaro que é o deus que põe no coração o amor da concórdia. No hospital, sete mães disputaram o privilégio de dar de mamar ao bebê. A vida é forte. E bela, apolínea, apesar de tudo. Por que não?

(Folha de S. Paulo, 30/05/1992)

FONTE: <http://varaldeleitura.blogspot.com.br/2014/06/cronica-flor-no-asfalto-de-otto-lara.html>

03

A passagem "Aparece aquela velinha acesa, o corpo é coberto por uma folha de jornal e pronto. Não se fala mais nisso" é:

- (A) Narrativa
- (B) Descritiva
- (C) Dissertativa
- (D) Injuntiva

04

Considerando a passagem "Teria sido o destino de dona Creusa, se não levasse nas entranhas a própria vida" e o

texto como um todo, é correto afirmar que a forma verbal em destaque:

- (A) Estabelece ideia de dúvida, uma vez que não fica claro, ao longo da passagem, se a personagem morreu por ter sido atropelada na rodovia.
- (B) Nega a certeza narrativa construída no parágrafo anterior.
- (C) Reforça a ideia de que as mortes ocorridas na rodovia caem no anonimato.
- (D) Desfaz a ideia do parágrafo anterior, pois a morte da personagem se diferencia das demais, visto que ela fora atropelada duas vezes.

05

Em “*Dona Creusa estava grávida e morreu na hora. Mas no asfalto, expelida com a placenta, apareceu uma criança*”, o termo em destaque estabelece, com o período anterior, ideia de:

- (A) causa
- (B) adversatividade
- (C) consequência
- (D) intensificação

06

O texto é uma crônica, o que justifica o uso de uma variante linguística mais informal. Se reescrevêssemos a passagem “*Coberta a mãe com um plástico azul, um estudante pegou o bebê e o levou para o acostamento*” pluralizando o termo *bebê*, considerando apenas a variante formal delimitada pela gramática normativa, teríamos:

- (A) Coberta a mãe com um plástico azul, um estudante pegou os bebês e os levou ao acostamento.
- (B) Coberta a mãe com um plástico azul, um estudante pegou os bebês e os levaram ao acostamento.
- (C) Coberta a mãe com um plástico azul, um estudante pegou os bebês e os levou para o acostamento.
- (D) Coberta a mãe com um plástico azul, um estudante pegou os bebês e os levaram para o acostamento.

07

Pelo contexto narrativo, o segundo atropelamento foi causado por um Apollo, carro produzido nos anos 90 pela montadora Volkswagen. Apolo é também um dos principais deuses da mitologia greco-romana. Essa interessante relação intertextual é explorada pelo autor ao final da crônica. Levando em consideração essas informações e o contexto, assinale a alternativa que contenha a melhor acepção do termo grifado contido na passagem “*A vida é forte. E bela, apolínea, apesar de tudo*”:

- (A) relativo ou pertencente a Apolo.
- (B) luminosa.
- (C) sem ordem; irracional, anárquica.
- (D) de natureza desinibida e agitada.

08

Na passagem “*No hospital, sete mães disputaram o privilégio de dar de mamar ao bebê*”, se o termo em destaque fosse substituído por ‘*criança*’, teríamos:

- (A) No hospital, sete mães disputaram o privilégio de dar de mamar a criança.

- (B) No hospital, sete mães disputaram o privilégio de dar de mamar à criança.
- (C) No hospital, sete mães disputaram o privilégio de dar de mamar pra criança.
- (D) No hospital, sete mães disputaram o privilégio de dar de mamar ante a criança.

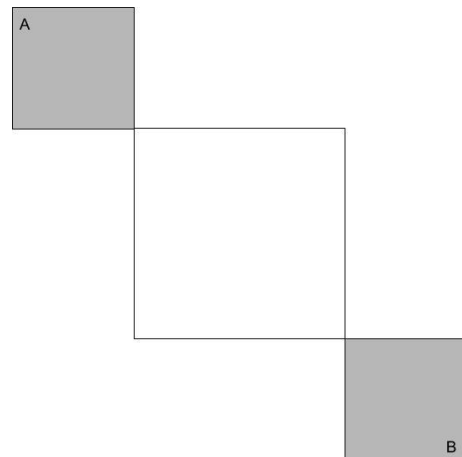
## MATEMÁTICA

?

09

Uma prova de velocidade é feita em uma pista onde temos dois quadrados cinzas e um quadrado branco central, como vemos na figura. Nos quadrados cinza é permitido aos participantes utilizar toda a sua área, enquanto no branco eles somente podem andar sobre os seus lados.

Sabendo que o lado do quadrado cinza mede 2 metros e o do quadrado branco mede 4 metros. A menor distância que pode ser percorrida para uma atleta sair do ponto A e chegar no ponto B é:



- (A)  $8\sqrt{2}$ .
- (B)  $8 + 4\sqrt{2}$ .
- (C)  $10 + 2\sqrt{2}$ .
- (D)  $4 + 8\sqrt{2}$ .

ÁREA PARA RASCUNHO

**10**

Em 2020 ocorre as olimpíadas de Tóquio. No quadro abaixo podemos ver um levantamento do total de medalhas ganhas por alguns países da América do Sul, ao longo de todas as competições.

	Ouro	Prata	Bronze	Total
<b>Brasil</b>	<b>30</b>	<b>36</b>	<b>63</b>	<b>129</b>
<b>Argentina</b>	<b>21</b>	<b>25</b>	<b>28</b>	<b>74</b>
<b>Colômbia</b>	<b>5</b>	<b>9</b>	<b>14</b>	<b>28</b>
<b>Venezuela</b>	<b>2</b>	<b>3</b>	<b>10</b>	<b>15</b>

Com base nos dados apresentados na tabela, a única afirmação verdadeira é:

- (A) O total de medalhas ganhas pela Argentina, é igual a 55% do total de medalhas ganhas pelo Brasil.
- (B) O total de medalhas de ouro ganhas por esses países juntos totalizam 60 medalhas.
- (C) O quádruplo das medalhas de Ouro ganhas pela Colômbia somado com as medalhas de bronze ganhas pela Venezuela é igual ao número de medalhas de ouro ganhas pelo Brasil.
- (D) O total de medalhas ganhas pela Colômbia é menor que o número de medalhas de bronze ganhas pela Argentina.

ÁREA PARA RASCUNHO

**11**

O salário de uma diarista varia de acordo com os dias e a quantidade de horas que a mesma trabalha. De segunda à quarta-feira ela cobra R\$ 10,00 por hora, de quinta e sexta-feira a hora de seu trabalho custa R\$ 15,00 e aos sábados o valor chega à R\$ 20,00 por hora. A tabela abaixo mostra a quantidade de horas trabalhadas por ela em determinada semana.

DIA DA SEMANA	HORAS TRABALHADAS
<b>Segunda-feira</b>	<b>7</b>
<b>Terça-feira</b>	<b>6</b>
<b>Quarta-feira</b>	<b>6</b>
<b>Quinta-feira</b>	<b>8</b>
<b>Sexta-feira</b>	<b>6</b>
<b>Sábado</b>	<b>4</b>

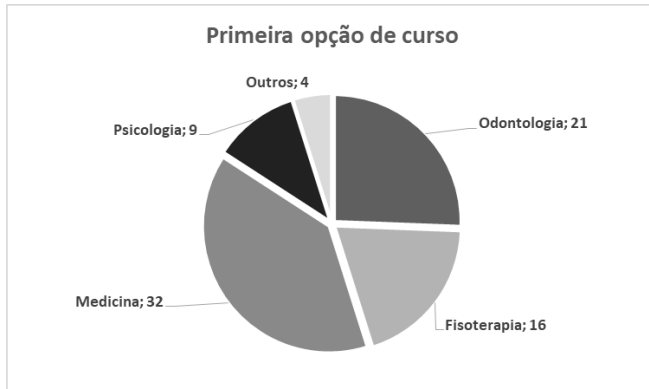
Qual foi a média de salário diário da mesma na semana apresentada?

- (A) R\$ 60,00
- (B) R\$ 70,00
- (C) R\$ 80,00
- (D) R\$ 90,00

ÁREA PARA RASCUNHO

12

A coordenadora de um cursinho pré-vestibular procurou mapear o interesse dos estudantes em cursos da área da saúde questionando-os sobre qual seria a primeira opção de cada um no vestibular caso existissem apenas cursos desta área. A partir dessa questão gerou o gráfico a seguir onde a quantidade de estudantes que optaram por determinado curso segue à frente do nome correspondente no gráfico.



A quantidade de estudantes que não optariam por Odontologia é:

- (A) Superior à três quartos da turma
- (B) Inferior à um quarto da turma
- (C) Inferior à 70% dos estudantes
- (D) Superior à 70% dos estudantes

13

Três atletas treinavam para suas respectivas competições em uma pista circular. O treinador percebeu que havia diferenças entre o desempenho de cada um deles:

Antônio completava meia volta na pista em 3 minutos, Bernardo realizava a volta inteira em 8 minutos e Cláudio percorria um quarto da pista em um minuto. O ritmo do trio se manteve constante durante os 48 minutos de atividade na pista de 800 metros de comprimento. Pode-se, portanto, constatar que:

- (A) Arnaldo percorreu 400 metros a mais que Bernardo
- (B) Bernardo percorreu 4000 metros a menos que Cláudio
- (C) Cláudio percorreu mais do que 3200 metros que Arnaldo
- (D) Arnaldo e Bernardo percorreram, juntos, a mesma distância de Cláudio

14

O número natural que é igual ao quociente de 16 dividido por esse número é:

- (A) 2.
- (B) -2.
- (C) 4.
- (D) -4.

ÁREA PARA RASCUNHO

ÁREA PARA RASCUNHO

**NOÇÕES DE INFORMÁTICA**

?





**15**

Após iniciar uma sessão no *Windows 10*, um funcionário resolveu organizar sua *Área de Trabalho*, arrastando alguns arquivos para a pasta *Documentos* e alguns atalhos de programas pouco utilizados para a *Lixeira*. Levando em consideração essa ação, analise as alternativas e assinale a correta.

- (A) Os programas que tiveram seus atalhos enviados à *Lixeira* podem ser reinstalados através da opção de recuperação disponibilizada no menu auxiliar do diretório.
- (B) Não será mais possível executar os programas que tiveram seus atalhos enviados à *Lixeira*.
- (C) Os ícones que representam os arquivos arrastados para a pasta *Documentos* não mais aparecem na *Área de Trabalho*.
- (D) Os arquivos arrastados para a pasta *Documentos* automaticamente geram atalhos na *Área de Trabalho*.

**16**

É bastante costumeiro que, em *e-mails* profissionais, haja a necessidade de anexar documentos para envio, por isso, a maioria dos clientes de *e-mail* atuais exibem um ícone por meio do qual é possível realizar o procedimento. Qual símbolo padrão da funcionalidade de anexar documentos na maioria dos clientes de *e-mail*?

- (A) 
- (B) 
- (C) 
- (D) 

**CONHECIMENTOS ESPECÍFICOS****17**

Quando veículos, transitando por fluxos que se cruzem, se aproximarem de local não sinalizado, terá preferência de passagem:

- (A) No caso de apenas um fluxo ser proveniente de rodovia, aquele que estiver circulando fora dela.
- (B) No caso de rotatória, aquele que estiver circulando fora dela.
- (C) Nos casos não especificados, o que vier pela direita do condutor.
- (D) Os veículos precedidos de batedores sempre terão prioridade de passagem, independente das demais normas de circulação.

**18**

Considerando as normas de trânsito para veículos nas vias terrestres abertas à circulação, analise as proposições abaixo e em seguida assinale a alternativa correta:

- I - Quando uma pista de rolamento comportar várias faixas de circulação no mesmo sentido, são as da direita destinadas ao deslocamento dos veículos mais lentos e de maior porte, quando não houver faixa especial a eles destinada, e as da esquerda, destinadas à ultrapassagem e ao deslocamento dos veículos de maior velocidade.
- II - O trânsito de veículos sobre passeios, calçadas e nos acostamentos, não poderá ocorrer para que se adentre ou se saia dos imóveis ou áreas especiais de estacionamento.
- III - Os veículos precedidos de batedores terão prioridade de passagem, respeitadas as demais normas de circulação.

- (A) Somente I está correta.
- (B) Somente II está correta.
- (C) I e II estão corretas.
- (D) I e III estão corretas

**19**

Um veículo em serviço de urgência e devidamente identificado por dispositivos regulamentares de alarme sonoro e iluminação vermelha intermitente, gozam de prioridade no trânsito. Considerando o contexto, assinale a alternativa correta:

- (A) A prioridade de passagem do veículo de urgência na via e no cruzamento deverá se dar com velocidade reduzida.
- (B) Quando os dispositivos estiverem acionados, indicando a proximidade dos veículos, todos os condutores deverão deixar livre a passagem por qualquer das faixas, indo para uma das laterais da via e parando, se necessário.
- (C) Os pedestres, ao ouvir o alarme sonoro, deverão deixar o passeio imediatamente antes do veículo passar pelo local.
- (D) O uso de dispositivos de alarme sonoro e de iluminação vermelha intermitente poderá ocorrer, além da efetiva prestação de serviço de urgência, para evitar atrasos.

**20**

A gestão do trânsito brasileiro é responsabilidade de um amplo conjunto de órgãos e entidades. Quanto à competência do Ministério Das Cidades, assinale a alternativa correta:

- (A) Saneamento ambiental é um dos assuntos de sua competência.
- (B) Tem o objetivo de harmonizar os respectivos orçamentos destinados às questões de trânsito.

- (C) Tem por competência, estabelecer as normas regulamentares referidas no Código de Trânsito Brasileiro.
- (D) É sua competência estabelecer as diretrizes da Política Nacional de Trânsito.

**21**

**O trânsito em condições seguras é um direito de todos e um dever dos órgãos e entidades do Sistema Nacional de Trânsito. Quanto a promoção da educação para o trânsito, assinale a alternativa correta:**

- (A) A educação para o trânsito é a mera transmissão de informações.
- (B) Tem como foco o ser humano, e trabalha a possibilidade de manutenção de valores, comportamentos e atitudes.
- (C) Se limita a eventos esporádicos e permite ações descoordenadas.
- (D) Educação inclui a percepção da realidade e a adaptação, assimilação e incorporação de novos hábitos e atitudes frente ao trânsito.

**22**

**Considerando a dimensão cidadã quando se abordam as questões do trânsito, de forma a considerar a liberdade de ir e vir, de atingir-se o destino que se deseja, de satisfazer as necessidades de trabalho, de lazer, de saúde, de educação e outras, assinale a alternativa correta:**

- (A) O trânsito deve ser abordado de forma a satisfazer as necessidades de trabalho, de lazer, de saúde, de educação e outras.
- (B) O trânsito deve estar associado, de forma preponderante, à ideia de fluidez.
- (C) O trânsito deve ser relacionado apenas aos condutores de veículos automotores.
- (D) O trânsito deve ser considerado como um fenômeno exclusivo dos grandes centros urbanos.

**23**

**A vida em sociedade requer o estabelecimento de limites em suas relações interpessoais, considerando as regras de trânsito, assinale a alternativa que apresenta um direito na condução do veículo:**

- (A) Conhecer o automóvel que está dirigindo;
- (B) Manter o automóvel sempre em boas condições de funcionamento;
- (C) Prever situações inesperadas, ficar atento e ser capaz de evitar acidentes;
- (D) Receber ajuda dos órgãos competentes, caso necessário, assim como os agentes de fiscalização.

**24**

**O veículo apreendido ou removido a qualquer título e não reclamado por seu proprietário, poderá ser avaliado e levado a leilão, dentro do prazo contado da data de recolhimento, de:**

- (A) sessenta dias.
- (B) oitenta dias.
- (C) cem dias.
- (D) cento e vinte dias.

**25**

**A Semana Nacional de Trânsito será comemorada, anualmente, no período compreendido entre:**

- (A) 11 e 18 de outubro
- (B) 18 e 25 de setembro
- (C) 18 e 25 de outubro
- (D) 11 e 18 de setembro

**26**

**A respeito do previsto na Lei Federal nº 9.503/1997, marque a alternativa incorreta:**

- (A) Nas interseções e suas proximidades, o condutor não poderá efetuar ultrapassagem.
- (B) O condutor que queira executar uma manobra deverá certificar-se de que pode executá-la sem perigo para os demais usuários da via que o seguem, precedem ou vão cruzar com ele, considerando sua posição, sua direção e sua velocidade.
- (C) O condutor que for ingressar numa via, procedente de um lote lindeiro a essa via, terá preferência aos veículos e pedestres que por ela estejam transitando.
- (D) Entende-se por deslocamento lateral a transposição de faixas, movimentos de conversão à direita, à esquerda e retornos.

**27**

**Compõem o Sistema Nacional de Trânsito, os seguintes órgãos e entidades, exceto:**

- (A) as Polícias Judiciárias dos Estados.
- (B) os Conselhos Estaduais de Trânsito.
- (C) a Polícia Rodoviária Federal.
- (D) o Conselho Nacional de Trânsito.

**28**

**É incorreto afirmar que o Ministério da Educação e do Desporto, mediante proposta do CONTRAN e do Conselho de Reitores das Universidades Brasileiras, diretamente, ou mediante convênio, promoverá:**

- (A) A adoção, em todos os níveis de ensino, de um currículo interdisciplinar com conteúdo programático sobre segurança de trânsito.
- (B) A adoção de conteúdos relativos às normas de trânsito, juntamente, às autoridades locais, com foco, nas escolas de educação infantil, buscando a criação de uma conscientização dos jovens.
- (C) A criação de corpos técnicos interprofissionais para levantamento e análise de dados estatísticos relativos ao trânsito.
- (D) A elaboração de planos de redução de acidentes de trânsito junto aos núcleos interdisciplinares universitários de trânsito, com vistas à integração universidades-sociedade, na área de trânsito.

**29**


**Deixar de sinalizar qualquer obstáculo à livre circulação, à segurança de veículo e pedestres, tanto no leito da via terrestre como na calçada, ou obstaculizar a via, indevidamente, irá configurar uma infração:**

- (A) Leve
- (B) Média

- (C) Grave
- (D) Gravíssima

**30**

A placa, abaixo, apresentada quando há uma interferência de transporte, representa:



- (A) Passagem de nível com barreira
- (B) Cruz de Santo André
- (C) Passagem de nível sem barreira
- (D) Ponte móvel

ÁREA PARA RASCUNHO

ÁREA PARA RASCUNHO