



NÃO ABRA ESTE CADERNO DE QUESTÕES ANTES QUE LHE PEÇAM.

AGUARDE AUTORIZAÇÃO PARA INICIAR A PROVA.

- ♣ Desligue o celular e outros aparelhos.
- ♣ Este **Caderno de Questões** contém **30 (trinta) questões** da Prova do seu Cargo. Verifique se este caderno corresponde com a sua opção de inscrição.
- ♣ Procure responder as questões na ordem em que elas aparecem no **Caderno de Questões**. Responda a todas as questões.
- ♣ Os candidatos poderão levar consigo o caderno de questões após o tempo mínimo de permanência na sala de Provas.
- ♣ Você deve assinar a Folha de Respostas. Confira todos os seus dados (Nome, RG, Data de Nascimento) e assine no campo indicado para assinatura.
A não assinatura por parte do candidato na Folha de Respostas resultará na eliminação automática do mesmo.
- ♣ Para preenchimento da Folha de Respostas, utilize caneta esferográfica azul ou preta.
- ♣ Você deve assinalar na **Folha de Respostas** somente uma letra (alternativa) para cada questão.
- ♣ Preencha na Folha de Respostas, com caneta de tinta azul ou preta, a letra escolhida conforme o exemplo:

--	--	--	--
- ♣ Assinale apenas uma alternativa para cada questão. Mais de uma marcação anulará a resposta.
- ♣ Não será permitido substituir a Folha de Respostas. Não rasure, amasse ou dobre a Folha.
- ♣ É vedado qualquer tipo de consulta e/ou comunicação durante a Prova.
- ♣ A prova terá duração de **2 horas**.
O tempo mínimo de permanência na sala é de **1 hora**.
- ♣ Sairão simultaneamente os 3 (três) últimos candidatos de cada sala. Havendo insistência por parte do candidato em sair da sala, este será considerado desistente do Concurso Público.
- ♣ Deixe sobre a carteira **apenas** RG, Caneta, Lápis e Borracha.
- ♣ Qualquer dúvida, fale exclusivamente com o fiscal de sala.

BOA PROVA !

CONHECIMENTOS GERAIS

CONHECIMENTO UNIVERSAL

01

"Após entrevista coletiva concedida a jornalistas nesta manhã na residência oficial, o presidente da Câmara dos Deputados fez um balanço positivo da agenda da Casa neste ano. Ele destacou a aprovação da reforma da Previdência e do novo marco legal do saneamento básico. A reforma da Previdência aprovada pelo Congresso aumenta o tempo para se aposentar, limita o benefício à média de todos os salários, eleva as alíquotas de contribuição para quem ganha acima do teto do INSS e estabelece regras de transição para os atuais assalariados. Já o marco do saneamento aprovado pelos deputados facilita a privatização de estatais do setor, exige licitação para a contratação desses serviços e prorroga o prazo para o fim dos lixões."

Fonte: Agência Câmara Notícias, 19/12/2019. Disponível em <<https://tinyurl.com/yx4s2tjb>>

Quem foi o presidente da Câmara Federal em 2019?

- (A) David Samuel Alcolumbre Tobelem
- (B) Eduardo Cosentino da Cunha
- (C) Delegado Waldir
- (D) Rodrigo Felinto Ibarra Epitácio Maia

02

" O ano de 2019 foi conturbado para os membros do Supremo Tribunal Federal (STF). Em meio a diversas votações controversas, como a derrubada da prisão em segunda instância e a criminalização da homofobia, e protestos de rua que os colocaram como alvo, o número de pedidos de impeachment dos magistrados atingiu neste ano um patamar recorde. Desde janeiro, foram 14 representações contra integrantes da Corte, cinco a mais do que no ano passado. O presidente do STF é o mais visado. Metade das tentativas protocoladas neste ano foram para que ele perdesse o cargo. No entanto, o Senado, responsável por dar continuidade aos pedidos, engavetou todos os pedidos de destituição dos magistrados. Veja a seguir os sete julgamentos com maior repercussão neste ano: 1. Criminalização da homofobia; 2. Competência da Justiça eleitoral; 3. Crédito tributário da Zona Franca de Manaus; 4. Privatização de subsidiárias; 5. Ordem das alegações em casos de delação premiada; 6. Fim da prisão em 2ª instância; 7. Compartilhamento de dados pelo Coaf."

Fonte: CERIONI, Clara. "Relembre as 7 votações no STF que definiram 2019", Exame, 28/12/2019. Disponível em <<https://tinyurl.com/qrc714>>

Quem era o presidente do Supremo Tribunal Federal em 2019?

- (A) Dias Toffoli
- (B) Gilmar Mendes
- (C) Jair Bolsonaro
- (D) Rodrigo Maia

LÍNGUA PORTUGUESA

Texto para as questões de 03 a 09

Hanseníase e as histórias de um Brasil que está na Idade Média

Por André Biernath

(...)

Você sabia que o Brasil é um dos únicos países do mundo que ainda registra casos de hanseníase? Nós só ficamos atrás da Índia num inglório ranking mundial e respondemos por 90% das ocorrências dela no continente americano. Por ano, 27 mil indivíduos recebem o diagnóstico por aqui. Roraima, Pará, Mato Grosso, Mato Grosso do Sul e Tocantins são os estados com as estatísticas mais graves.

A hanseníase é causada por uma bactéria chamada *Mycobacterium leprae*, transmitida de um indivíduo para outro por meio de gotículas de saliva, que entram pela boca e pelo nariz. O micro-organismo se instala nos nervos periféricos do corpo, bem próximo à pele, e fica ali durante anos, sem dar sintomas. Ele demora muito tempo para se reproduzir: a título de comparação, ele leva 15 dias para dar origem a um novo bacilo, enquanto a bactéria da tuberculose, por exemplo, se replica a cada 24 horas. Mas chega um momento em que sua presença na região diminui a sensibilidade e desemboca em sérias lesões.

Acontece que cerca de 90% das pessoas possuem defesa natural contra o agente infeccioso. Mas há 10% que estão vulneráveis a ele e podem vir a desenvolver o problema. Outro dado que mostra a perplexidade do quadro brasileiro: o diagnóstico da condição é fácil, feito no consultório do médico, sem necessidade de exames mais complexos. O tratamento, por sua vez, é simples e consiste no uso de dois ou três antibióticos por alguns meses. Depois desse tempo, a bactéria acaba extirpada do organismo e a cura está garantida.

(...)

A dermatologista Letícia Maria Edit, de Porto Alegre, publicou um artigo em que rememora episódios da hanseníase no Brasil. Durante vários séculos, os portadores da doença foram tratados com extremo preconceito por aqui. Eles eram proibidos de comer, dormir ou casar com pessoas saudáveis, não podiam tocar em comidas nos mercados e nem entrar em algumas cidades, como São Paulo. "Os filhos dos leprosos não podiam ser batizados como as outras crianças pelo risco de poluir as águas da pia batismal", escreve.

No texto de Letícia, um episódio com hansenianos brasileiros chama atenção pela similaridade com *The Walking Dead*, série norte-americana de zumbis produzida pelo canal de televisão AMC. Nos idos de 1800, uma lenda dizia que o doente ficaria curado da doença se fosse capaz de infectar outras sete pessoas. Na tentativa de se livrar da encrenca, um grupo de leprosos resolveu invadir uma cidade no norte do estado de São Paulo (não se sabe qual município ao certo) e atacou os moradores, que, assustados, responderam com armas e porretes. Aqueles que conseguiram fugir saíram correndo por uma

estrada e encontraram uma criança, que foi agredida a dentadas até sangrar.

Infelizmente, desse episódio bárbaro para os dias de hoje o cenário pouco mudou. O preconceito é tão grande que preferimos esquecer e ignorar a existência da doença e dos indivíduos acometidos por ela. A troca de nome de lepra para hanseníase parece ter mais confundido do que ajudado a aplacar a intolerância.

(...)

Segundo o dermatologista Marco Andrey Cipriani, presidente da Sociedade Brasileira de Hansenologia, os principais sintomas da condição:

“Nas formas iniciais, a hanseníase se manifesta por anos através de dormências, câibras e formigamentos em áreas definidas do corpo. Esses sinais ficam mais comuns nos meses frios do ano. Depois, surgem lesões de pele esbranquiçadas e avermelhadas, ou nódulos espalhados pelo corpo, na face e nas orelhas. Todas essas lesões vêm acompanhadas de alterações de sensibilidade. Um bom teste é tocar com a mão ou com algum objeto no local machucado e, depois, numa região próxima. Se você sentir diferença no tato, é importantíssimo procurar o médico o quanto antes”.

FONTE: <https://saude.abril.com.br/blog/tunel-do-tempo/hanseníase-e-as-histórias-de-um-brasil-que-esta-na-idade-media/> - com adaptações.

03

Em “A hanseníase é causada por uma bactéria chamada *Mycobacterium leprae*, transmitida de um indivíduo para outro por meio de gotículas de saliva, que entram pela boca e pelo nariz. O micro-organismo se instala nos nervos periféricos do corpo, bem próximo à pele, e fica ali durante anos, sem dar sintomas. Ele demora muito tempo para se reproduzir: a título de comparação, ele leva 15 dias para dar origem a um novo bacilo, enquanto a bactéria da tuberculose, por exemplo, se replica a cada 24 horas. Mas chega um momento em que sua presença na região diminui a sensibilidade e desemboca em sérias lesões”, os termos em destaque são responsáveis pela coesão textual. Sendo assim, pode-se afirmar que esses termos recuperam:

- (A) Bactéria *Mycobacterium leprae*
- (B) Indivíduo
- (C) Gotículas de saliva
- (D) Boca e nariz

04

Em “Mas há 10% que estão vulneráveis a ele e podem vir a desenvolver o problema”, se substituíssemos o termo destacado por *bactéria*, teríamos:

- (A) Mas há 10% que estão vulneráveis a bactéria e podem vir a desenvolver o problema.
- (B) Mas há 10% que estão vulneráveis à bactéria e podem vir a desenvolver o problema.
- (C) Mas há 10% que estão vulneráveis à bactéria e podem vir a desenvolverem o problema.
- (D) Mas há 10% que estão vulneráveis a bactéria e pode vir a desenvolverem o problema.

05

Assinale a alternativa em que a passagem “(...) o diagnóstico da condição é fácil, feito no consultório do

médico, sem necessidade de exames mais complexos” está corretamente reescrita:

- (A) (...) o diagnóstico da condição é fácil, feito no consultório do médico e não se necessitam de exames mais complexos.
- (B) (...) o diagnóstico da condição é fácil, feito no consultório do médico, sem que se necessitem de exames mais complexos.
- (C) (...) o diagnóstico da condição é fácil, feito no consultório do médico e não se necessita de exames mais complexos.
- (D) (...) o diagnóstico da condição é fácil, feito no consultório do médico e não há que se necessitem de exames mais complexos.

06

Em “*Eles eram proibidos de comer, dormir ou casar com pessoas saudáveis, não podiam tocar em comidas nos mercados e nem entrar em algumas cidades, como São Paulo*”, a expressão em destaque traduz ideia de:

- (A) Soma
- (B) Oposição
- (C) Causa
- (D) Consequência

07

O texto jornalístico se vale, em geral, de uma variante linguística formal. No entanto, em alguns momentos, o autor lança mão de um registro mais informal, dado o tipo de mídia em que é veiculado e o tipo de público a que se dirige. Assinale a alternativa que contenha uma palavra ou expressão de variante linguística informal, próxima da coloquialidade:

- (A) Ele demora muito tempo para se reproduzir: a título de comparação, ele leva 15 dias para dar origem a um novo bacilo (...).
- (B) A dermatologista Letícia Maria Edit, de Porto Alegre, publicou um artigo em que rememora episódios da hanseníase no Brasil.
- (C) Na tentativa de se livrar da encrenca, um grupo de leprosos resolveu invadir uma cidade no norte do estado de São Paulo (...).
- (D) A troca de nome de lepra para hanseníase parece ter mais confundido do que ajudado a aplacar a intolerância.

08

Em “A dermatologista Letícia Maria Edit, de Porto Alegre, publicou um artigo em que rememora episódios da hanseníase no Brasil”, substituindo o termo em destaque pelo verbo *lembrar*, teríamos:

- (A) A dermatologista Letícia Maria Edit, de Porto Alegre, publicou um artigo em que lembra de episódios da hanseníase no Brasil.
- (B) A dermatologista Letícia Maria Edit, de Porto Alegre, publicou um artigo de que lembra de episódios da hanseníase no Brasil.
- (C) A dermatologista Letícia Maria Edit, de Porto Alegre, publicou um artigo em cujo lembra episódios da hanseníase no Brasil.
- (D) A dermatologista Letícia Maria Edit, de Porto Alegre, publicou um artigo em que lembra episódios da hanseníase no Brasil.

09

No último parágrafo do texto, as aspas se justificam porque:

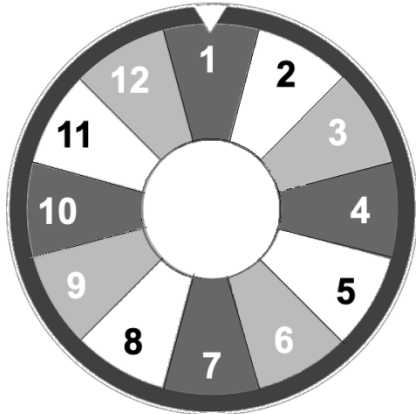
- (A) É uma citação literal.
- (B) Há nela palavras estrangeiras, não incorporadas à língua.
- (C) Contém gírias e expressões coloquiais.
- (D) Marca a ironia da afirmação.

MATEMÁTICA

?

10

A imagem abaixo apresenta uma roleta na sua posição inicial, indicada pelo triângulo branco que aponta para o número 1.



Supondo que a roleta gire 2.070 graus no sentido horário, qual número ficará apontado pelo triângulo branco?

- (A) Número 1
- (B) Número 4
- (C) Número 7
- (D) Número 10

11

Observe a pequena estória abaixo, analise as relações lógicas entre as proposições e responda.

Mateus entrou para família há pouco tempo e a novidade exigiu com que seus pais, seu irmão e sua avó se organizassem para garantir sua ida à escola desde cedo. Assim, se Mateus vai à escola, então ou seu pai vai levá-lo ou sua mãe vai buscá-lo. Se sua mãe vai buscá-lo, seu irmão vai ao clube. Mas seu irmão vai ao clube se e somente se não for verdade que seu professor não vai dar treino naquele dia. Se Mateus não vai à escola, então sua avó vai buscá-lo em casa.

Sabendo que o pai de Mateus não vai levá-lo à escola e o professor de seu irmão não vai dar treino naquele dia, pode-se concluir que:

- (A) O professor do irmão de Mateus não vai dar treino naquele dia e seu irmão vai clube.
- (B) A avó de Mateus não vai buscá-lo em casa ou sua mãe vai buscá-lo na escola.
- (C) O pai de Mateus não vai levá-lo à escola e sua mãe vai buscá-lo.
- (D) Mateus não vai à escola e sua mãe não vai buscá-lo.

12

Ao final do ano letivo, o professor contabilizou a média das notas, na escala de 0 a 10, de todos seus 120 alunos. Analisando os resultados, observou que 15% dos alunos obtiverem rendimento insuficiente, com média entre 0 e 5, e foram automaticamente reprovados. Do restante, metade obteve média entre 5 e 6, e ficou de recuperação, e, do restante, apenas 1 em cada 10 alunos alcançou a nota máxima. Aproximadamente quantos alunos obtiveram nota 10?

- (A) 02 alunos
- (B) 05 alunos
- (C) 10 alunos
- (D) 25 alunos

ÁREA PARA
RASCUNHO

NOÇÕES DE INFORMÁTICA

?





13

Após iniciar uma sessão no *Windows 10*, um funcionário resolveu organizar sua *Área de Trabalho*, arrastando alguns arquivos para a pasta *Documentos* e alguns atalhos de programas pouco utilizados para a *Lixeira*. Levando em consideração essa ação, analise as alternativas e assinale a correta.

- (A) Os programas que tiveram seus atalhos enviados à *Lixeira* podem ser reinstalados através da opção de recuperação disponibilizada no menu auxiliar do diretório.
- (B) Não será mais possível executar os programas que tiveram seus atalhos enviados à *Lixeira*.
- (C) Os ícones que representam os arquivos arrastados para a pasta *Documentos* não mais aparecem na *Área de Trabalho*.
- (D) Os arquivos arrastados para a pasta *Documentos* automaticamente geram atalhos na *Área de Trabalho*.

14

É bastante costumeiro que, em *e-mails* profissionais, haja a necessidade de anexar documentos para envio, por isso, a maioria dos clientes de *e-mail* atuais exibem um ícone por meio do qual é possível realizar o procedimento. Qual símbolo padrão da funcionalidade de anexar documentos na maioria dos clientes de *e-mail*?

- (A) 
- (B) 
- (C) 
- (D) 

CONHECIMENTOS ESPECÍFICOS

15

Observe a referência:

O'NEILL, Eugene. Estranho interlúdio. São Paulo: EdUSP, 2010.

Com base na Tabela Cutter-Sanborn, assinale a alternativa que possui o número de chamada elaborado corretamente.

- (A) 090 \$a 812 \$b N411e
- (B) 090 \$a 812 \$b O58
- (C) 090 \$a 812 \$b O58e
- (D) 090 \$a 812 \$b N411

16

Relacione os termos listados a seguir, previstos na norma ABNT NBR 14724, as suas respectivas definições.

1. Apêndice

2. Anexo

3. Folha de rosto

4. Índice

() Texto ou documento não elaborado pelo autor, que serve de fundamentação, comprovação e ilustração.

() Texto ou documento elaborado pelo autor, a fim de complementar sua argumentação, sem prejuízo da unidade nuclear do trabalho.

() Folha que contém os elementos essenciais à identificação do trabalho.

() Lista de palavras ou frases, ordenadas segundo determinado critério, que localiza e remete para as informações contidas no texto.

A sequência correta de preenchimento dos parênteses, de cima para baixo, é

- (A) 4 – 1 – 2 – 3.
- (B) 3 – 4 – 1 – 2.
- (C) 1 – 2 – 3 – 4.
- (D) 2 – 1 – 3 – 4.

17

Ao catalogar uma obra utilizando o formato MARC 21 bibliográfico, as informações de “Entrada secundária – nome geográfico” e “Assunto – nome geográfico” devem ser inseridos respectivamente nos campos:

- (A) 600 e 700.
- (B) 700 e 600.
- (C) 651 e 751.
- (D) 751 e 651.

18

Ao elaborar uma referência bibliográfica, Pedro não encontrou o local de publicação no documento. Porém

conseguiu identificar utilizando outros recursos disponíveis. De acordo com a norma ABNT NBR 6023:2018, como Pedro deve apresentar essa referência?

- (A) MORENO, Tales. **A casa azul**. 3. ed. [Curitiba]: Scritta, 2010.
- (B) MORENO, Tales. **A casa azul**. 3. ed. Curitiba: Scritta, 2010.
- (C) MORENO, Tales. **A casa azul**. 3. ed. [S. l.]: Scritta, 2010.
- (D) MORENO, Tales. **A casa azul**. 3. ed. Paraná: Scritta, 2010.

19

A indicação da edição de uma obra publicada em Língua Inglesa consta da página de rosto como *sixth edition*. Na catalogação, segundo o Código de Catalogação Anglo-americano (AACR), essa indicação deve ser abreviada na área da edição, como

- (A) 6th ed.
- (B) 6. ed.
- (C) [6. ed.].
- (D) sixth ed.

20

“É um protocolo de comunicação entre computadores desenhado para permitir pesquisa e recuperação de informação - documentos com textos completos, dados bibliográficos, imagens, multimeios - em redes de computadores distribuídos”.

O texto acima se refere à (ao):

- (A) Z39.50
- (B) MARC XML
- (C) ISO 2709
- (D) RDA

21

Em relação ao ORCID assinale a afirmativa correta.

- (A) É um sistema internacional de identificação de livros que utiliza números para classificá-los por título, autor, país, editora e edição.
- (B) É um identificador digital único, gratuito e persistente, que distingue um pesquisador de outro.
- (C) É um número serial de oito dígitos, usado para identificação única de uma publicação em série, aceite internacionalmente.
- (D) É um sistema que oferece identificadores para documentos digitais, e permite a identificação inequívoca e persistente no ambiente Web.

22

A bibliotecária Teresa no processo catalogação identificou que uma obra não possuía datas de publicação, distribuição etc. Nesses casos, o Código de Catalogação Anglo-americano (AACR) indica o uso da data de copyright.

Assinale a alternativa que apresenta a descrição de forma correta para esse caso.

- (A) 260 ## \$a São Paulo : \$b Melhoramentos, \$c 1982.
- (B) 260 ## \$a São Paulo : \$b Melhoramentos, \$c c1982.
- (C) 260 ## \$a São Paulo : \$b Melhoramentos, \$c [1982].
- (D) 260 ## \$a São Paulo : \$b Melhoramentos, \$c ca. 1982.

23

Considerando a norma NBR 10520, assinale com V (verdadeiro) ou com F (falso) os enunciados abaixo.

- () Quando a citação incluir texto traduzido pelo autor, deve-se incluir, após a chamada da citação, a expressão tradução nossa entre parênteses.
- () As citações indiretas de diversos documentos de vários autores, mencionados simultaneamente, devem ser separadas por ponto-e-vírgula, em ordem cronológica crescente. Exemplo: (KNOX, 1986; MEZIRROW, 1991; CROSS, 2001).
- () As citações devem ser indicadas no texto somente pelo sistema de chamada autor-data.
- () Para enfatizar trechos da citação, deve-se destacá-los indicando esta alteração com a expressão grifo nosso entre parênteses.

A sequência correta de preenchimento dos parênteses, de cima para baixo, é

- (A) V – F – V – F.
- (B) V – F – F – V.
- (C) F – V – V – F.
- (D) F – V – F – V.

24

A quantidade de palavras que formam um resumo é limitada na norma NBR 6028. De acordo essa norma, qual das alternativas abaixo está INCORRETA.

- (A) 435 palavras em um resumo de dissertação.
- (B) 453 palavras em um resumo de tese.
- (C) 404 palavras em um resumo de artigo de periódico.
- (D) 497 palavras em um resumo de relatório técnico-científico.

25

Leia o fragmento de texto a seguir:

“A _____, como um processo de representação do conteúdo dos documentos, é um elemento fundamental para o processo de _____ e _____ da informação”.

Assinale a opção que apresenta, na sequência correta, os termos que completam as lacunas do fragmento.

- (A) referência – recuperação – uso.
- (B) gestão – acesso – classificação.
- (C) indexação – busca – recuperação.
- (D) catalogação – classificação – indexação.

26

Conforme as orientações do Código de Catalogação Anglo-Americano (AACR2), a Secretaria Municipal de Educação, do município de Campos do Jordão, em São Paulo, terá como entrada o seguinte cabeçalho:

- (A) Campos do Jordão (SP). Secretaria Municipal de Educação.
- (B) Campos do Jordão (São Paulo). Brasil. Secretaria Municipal de Educação.
- (C) Brasil (Campos do Jordão). Secretaria Municipal de Educação.

- (D) Secretaria Municipal de Educação. Campos do Jordão (SP).

27

“É um campo das áreas da biblioteconomia e da ciência da informação que aplica métodos estatísticos e matemáticos para analisar e construir indicadores sobre a dinâmica e evolução da informação científica e tecnológica de determinadas disciplinas, áreas, organizações ou países”.

O texto acima se refere a:

- (A) Organização da Informação
(B) Bibliometria
(C) Gestão da Informação
(D) Sociologia do conhecimento

28

A avaliação da coleção de uma biblioteca inclui uma atividade que analisa os materiais que não mais interessam à biblioteca e que devem ser retirados de forma definitiva do acervo a fim de manter a coleção sempre atualizada, bem como racionalizar o espaço físico. Essa atividade é denominada:

- (A) Doação.
(B) Remanejamento.
(C) Desbaste.
(D) Seleção.

29

Assinale a alternativa que apresenta corretamente a entrada para “Papa João Paulo I” de acordo com o Código de Catalogação Anglo-Americano (AACR2):

- (A) Paulo, Papa, João I.
(B) João Paulo, Papa.
(C) Papa João Paulo I.
(D) João Paulo I, Papa.

30

Relacione as áreas da descrição listadas a seguir, previstas no Código de Catalogação Anglo-americano (AACR), aos seus respectivos elementos.

- | | | |
|---|-----|------------------------------------|
| 1. Título e indicação de responsabilidade | () | Lugar de impressão |
| 2. Publicação, distribuição etc. | () | Material adicional |
| 3. Descrição física | () | Designação geral do material (DGM) |

A sequência correta de preenchimento dos parênteses, de cima para baixo, é

- (A) 1 – 2 – 3.
(B) 3 – 2 – 1.
(C) 2 – 1 – 3.
(D) 2 – 3 – 1.

ÁREA PARA
RASCUNHO