



PREFEITURA MUNICIPAL DE CAMPOS DO JORDÃO

Estado de São Paulo

AGENTE DE CONTROLE DE ENDEMIAS

CONCURSO PÚBLICO
02/2019

NÃO ABRA ESTE CADERNO DE QUESTÕES ANTES QUE LHE PEÇAM.

AGUARDE AUTORIZAÇÃO PARA INICIAR A PROVA.

- ♣ Desligue o celular e outros aparelhos.
- ♣ Este **Caderno de Questões** contém **30 (trinta) questões** da Prova do seu Cargo. Verifique se este caderno corresponde com a sua opção de inscrição.
- ♣ Procure responder as questões na ordem em que elas aparecem no **Caderno de Questões**. Responda a todas as questões.
- ♣ Os candidatos poderão levar consigo o caderno de questões após o tempo mínimo de permanência na sala de Provas.
- ♣ Você deve assinar a Folha de Respostas. Confira todos os seus dados (Nome, RG, Data de Nascimento) e assine no campo indicado para assinatura.
A não assinatura por parte do candidato na Folha de Respostas resultará na eliminação automática do mesmo.
- ♣ Para preenchimento da Folha de Respostas, utilize caneta esferográfica azul ou preta.
- ♣ Você deve assinalar na **Folha de Respostas** somente uma letra (alternativa) para cada questão.
- ♣ Preencha na Folha de Respostas, com caneta de tinta azul ou preta, a letra escolhida conforme o exemplo:

--	--	--	--
- ♣ Assinale apenas uma alternativa para cada questão. Mais de uma marcação anulará a resposta.
- ♣ Não será permitido substituir a Folha de Respostas. Não rasure, amasse ou dobre a Folha.
- ♣ É vedado qualquer tipo de consulta e/ou comunicação durante a Prova.
- ♣ A prova terá duração de **2 horas**.
O tempo mínimo de permanência na sala é de **1 hora**.
- ♣ Sairão simultaneamente os 3 (três) últimos candidatos de cada sala. Havendo insistência por parte do candidato em sair da sala, este será considerado desistente do Concurso Público.
- ♣ Deixe sobre a carteira **apenas** RG, Caneta, Lápis e Borracha.
- ♣ Qualquer dúvida, fale exclusivamente com o fiscal de sala.

BOA PROVA !

CONHECIMENTOS GERAIS

CONHECIMENTO UNIVERSAL

01

" O ano de 2019 foi conturbado para os membros do Supremo Tribunal Federal (STF). Em meio a diversas votações controversas, como a derrubada da prisão em segunda instância e a criminalização da homofobia, e protestos de rua que os colocaram como alvo, o número de pedidos de impeachment dos magistrados atingiu neste ano um patamar recorde. Desde janeiro, foram 14 representações contra integrantes da Corte, cinco a mais do que no ano passado. O presidente do STF é o mais visado. Metade das tentativas protocoladas neste ano foram para que ele perdesse o cargo. No entanto, o Senado, responsável por dar continuidade aos pedidos, engavetou todos os pedidos de destituição dos magistrados. Veja a seguir os sete julgamentos com maior repercussão neste ano: 1. Criminalização da homofobia; 2. Competência da Justiça eleitoral; 3. Crédito tributário da Zona Franca de Manaus; 4. Privatização de subsidiárias; 5. Ordem das alegações em casos de delação premiada; 6. Fim da prisão em 2ª instância; 7. Compartilhamento de dados pelo Coaf."

Fonte: CERIONI, Clara. "Relembra as 7 votações no STF que definiram 2019", Exame, 28/12/2019. Disponível em <<https://tinyurl.com/qrc714>>

Quem era o presidente do Supremo Tribunal Federal em 2019?

- (A) Dias Toffoli
- (B) Gilmar Mendes
- (C) Jair Bolsonaro
- (D) Rodrigo Maia

02

"As eleições diretas representam um avanço histórico na forma em que os brasileiros elegem seus governantes desde que foi promulgada a Constituição de 1988. Em 2020, será realizado mais um ano para eleições, que levarão milhões de brasileiros as urnas em todo o Brasil para escolherem os prefeitos e vereadores de suas respectivas cidades. Com data de realização agendada para 04 de Outubro de 2020, a próxima corrida eleitoral será marcada de algumas novidades, a principal dela, sendo a de proibição de alianças quanto a disputa para as cadeiras da câmara de vereadores, sendo somente permitida a realização de alianças para os cargos do executivo, ou seja, prefeito e vice-prefeito."

Fonte: CUNHA, Márcio. Jornal Opção, 24/11/2019. Disponível em <<https://tinyurl.com/yx3j2omn>>

Quando é a periodicidade das eleições gerais no Brasil?

- (A) a cada ano
- (B) a cada dois anos
- (C) a cada três anos
- (D) a cada quatro anos

LÍNGUA PORTUGUESA

?

Texto para as questões de 03 a 08

A flor no asfalto

Otto Lara Rezende

Conheço essa estrada genocida, o começo da Rio-Petrópolis. Duvido que se encontre um trecho rodoviário ou urbano mais assassino do que esse. São tantos os acidentes que já nem se abre inquérito. Quem atravessa a avenida Brasil fora da passarela quer morrer. Se morre, ninguém liga. Aparece aquela velinha acesa, o corpo é coberto por uma folha de jornal e pronto. Não se fala mais nisso.

Teria sido o destino de dona Creusa, se não levasse nas entranhas a própria vida. Na pista que vem para o Rio, a 20 metros da passarela de pedestres, dona Creusa foi apanhada por uma Kombi. O motorista tentou parar e não conseguiu. Em seguida, veio um outro carro, um Apollo, e sobreveio o segundo atropelamento. A mesma vítima. Ferida, o ventre aberto pelas ferragens, deu-se aí o milagre.

Dona Creusa estava grávida e morreu na hora. Mas no asfalto, expelida com a placenta, apareceu uma criança. Coberta a mãe com um plástico azul, um estudante pegou o bebê e o levou para o acostamento. Nunca tinha visto um parto na sua vida. Entre os curiosos, uma mulher amarrou o umbigo da recém-nascida. Uma menina. Por sorte, vinha vindo uma ambulância. Depois de chorar no asfalto, o bebê foi levado para o hospital de Xerém.

Dona Creusa, aos 44 anos, já era avó, mãe de vários filhos e viúva. Pobre, concentração humana de experiências e de dores, tinha pressa de viver. E era uma pilha carregada de vida. Quem devia estar ali era sua nora Marizete. Mas dona Creusa se ofereceu para ir no seu lugar porque, grávida, não pagava a passagem. Com o dinheiro do ônibus podia comprar sabão. Levava uma bolsa preta, com um coração de cartolina vermelha.

No cartão estava escrito: quinta-feira. Foi o dia do atropelamento. Apolo é o símbolo da vitória sobre a violência. Diz o poeta Píndaro que é o deus que põe no coração o amor da concórdia. No hospital, sete mães disputaram o privilégio de dar de mamar ao bebê. A vida é forte. E bela, apolínea, apesar de tudo. Por que não?

(Folha de S. Paulo, 30/05/1992)

FONTE: <http://varaldeleitura.blogspot.com.br/2014/06/cronica-flor-no-asfalto-de-otto-lara.html>

03

A passagem "Aparece aquela velinha acesa, o corpo é coberto por uma folha de jornal e pronto. Não se fala mais nisso" é:

- (A) Narrativa
- (B) Descritiva
- (C) Dissertativa
- (D) Injuntiva

04

Considerando a passagem "Teria sido o destino de dona Creusa, se não levasse nas entranhas a própria vida" e o

texto como um todo, é correto afirmar que a forma verbal em destaque:

- (A) Estabelece ideia de dúvida, uma vez que não fica claro, ao longo da passagem, se a personagem morreu por ter sido atropelada na rodovia.
- (B) Nega a certeza narrativa construída no parágrafo anterior.
- (C) Reforça a ideia de que as mortes ocorridas na rodovia caem no anonimato.
- (D) Desfaz a ideia do parágrafo anterior, pois a morte da personagem se diferencia das demais, visto que ela fora atropelada duas vezes.

05

Em “*Dona Creusa estava grávida e morreu na hora. Mas no asfalto, expelida com a placenta, apareceu uma criança*”, o termo em destaque estabelece, com o período anterior, ideia de:

- (A) causa
- (B) adversatividade
- (C) consequência
- (D) intensificação

06

O texto é uma crônica, o que justifica o uso de uma variante linguística mais informal. Se reescrevêssemos a passagem “*Coberta a mãe com um plástico azul, um estudante pegou o bebê e o levou para o acostamento*” pluralizando o termo *bebê*, considerando apenas a variante formal delimitada pela gramática normativa, teríamos:

- (A) Coberta a mãe com um plástico azul, um estudante pegou os bebês e os levou ao acostamento.
- (B) Coberta a mãe com um plástico azul, um estudante pegou os bebês e os levaram ao acostamento.
- (C) Coberta a mãe com um plástico azul, um estudante pegou os bebês e os levou para o acostamento.
- (D) Coberta a mãe com um plástico azul, um estudante pegou os bebês e os levaram para o acostamento.

07

Pelo contexto narrativo, o segundo atropelamento foi causado por um Apollo, carro produzido nos anos 90 pela montadora Volkswagen. Apolo é também um dos principais deuses da mitologia greco-romana. Essa interessante relação intertextual é explorada pelo autor ao final da crônica. Levando em consideração essas informações e o contexto, assinale a alternativa que contenha a melhor acepção do termo grifado contido na passagem “*A vida é forte. E bela, apolínea, apesar de tudo*”:

- (A) relativo ou pertencente a Apolo.
- (B) luminosa.
- (C) sem ordem; irracional, anárquica.
- (D) de natureza desinibida e agitada.

08

Na passagem “*No hospital, sete mães disputaram o privilégio de dar de mamar ao bebê*”, se o termo em destaque fosse substituído por ‘*criança*’, teríamos:

- (A) No hospital, sete mães disputaram o privilégio de dar de mamar a criança.

- (B) No hospital, sete mães disputaram o privilégio de dar de mamar à criança.
- (C) No hospital, sete mães disputaram o privilégio de dar de mamar pra criança.
- (D) No hospital, sete mães disputaram o privilégio de dar de mamar ante a criança.

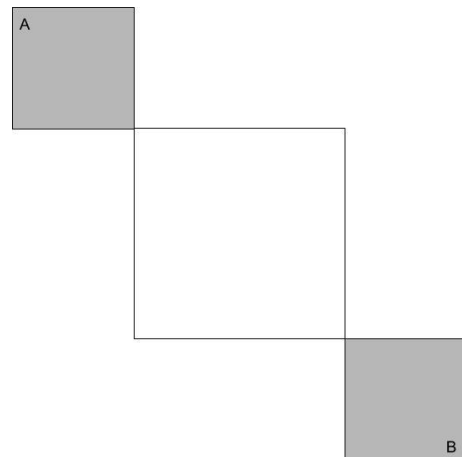
MATEMÁTICA

?

09

Uma prova de velocidade é feita em uma pista onde temos dois quadrados cinzas e um quadrado branco central, como vemos na figura. Nos quadrados cinza é permitido aos participantes utilizar toda a sua área, enquanto no branco eles somente podem andar sobre os seus lados.

Sabendo que o lado do quadrado cinza mede 2 metros e o do quadrado branco mede 4 metros. A menor distância que pode ser percorrida para uma atleta sair do ponto A e chegar no ponto B é:



- (A) $8\sqrt{2}$.
- (B) $8 + 4\sqrt{2}$.
- (C) $10 + 2\sqrt{2}$.
- (D) $4 + 8\sqrt{2}$.

ÁREA PARA RASCUNHO

10

Em 2020 ocorre as olimpíadas de Tóquio. No quadro abaixo podemos ver um levantamento do total de medalhas ganhas por alguns países da América do Sul, ao longo de todas as competições.

	Ouro	Prata	Bronze	Total
Brasil	30	36	63	129
Argentina	21	25	28	74
Colômbia	5	9	14	28
Venezuela	2	3	10	15

Com base nos dados apresentados na tabela, a única afirmação verdadeira é:

- (A) O total de medalhas ganhas pela Argentina, é igual a 55% do total de medalhas ganhas pelo Brasil.
- (B) O total de medalhas de ouro ganhas por esses países juntos totalizam 60 medalhas.
- (C) O quádruplo das medalhas de Ouro ganhas pela Colômbia somado com as medalhas de bronze ganhas pela Venezuela é igual ao número de medalhas de ouro ganhas pelo Brasil.
- (D) O total de medalhas ganhas pela Colômbia é menor que o número de medalhas de bronze ganhas pela Argentina.

ÁREA PARA RASCUNHO

11

O salário de uma diarista varia de acordo com os dias e a quantidade de horas que a mesma trabalha. De segunda à quarta-feira ela cobra R\$ 10,00 por hora, de quinta e sexta-feira a hora de seu trabalho custa R\$ 15,00 e aos sábados o valor chega à R\$ 20,00 por hora. A tabela abaixo mostra a quantidade de horas trabalhadas por ela em determinada semana.

DIA DA SEMANA	HORAS TRABALHADAS
Segunda-feira	7
Terça-feira	6
Quarta-feira	6
Quinta-feira	8
Sexta-feira	6
Sábado	4

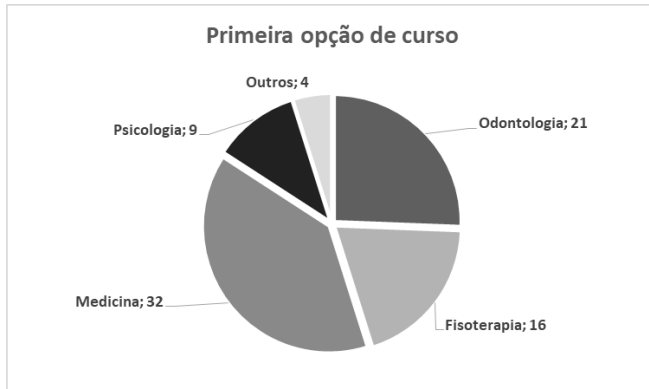
Qual foi a média de salário diário da mesma na semana apresentada?

- (A) R\$ 60,00
- (B) R\$ 70,00
- (C) R\$ 80,00
- (D) R\$ 90,00

ÁREA PARA RASCUNHO

12

A coordenadora de um cursinho pré-vestibular procurou mapear o interesse dos estudantes em cursos da área da saúde questionando-os sobre qual seria a primeira opção de cada um no vestibular caso existissem apenas cursos desta área. A partir dessa questão gerou o gráfico a seguir onde a quantidade de estudantes que optaram por determinado curso segue à frente do nome correspondente no gráfico.



A quantidade de estudantes que não optariam por Odontologia é:

- (A) Superior à três quartos da turma
- (B) Inferior à um quarto da turma
- (C) Inferior à 70% dos estudantes
- (D) Superior à 70% dos estudantes

13

Três atletas treinavam para suas respectivas competições em uma pista circular. O treinador percebeu que havia diferenças entre o desempenho de cada um deles:

Antônio completava meia volta na pista em 3 minutos, Bernardo realizava a volta inteira em 8 minutos e Cláudio percorria um quarto da pista em um minuto. O ritmo do trio se manteve constante durante os 48 minutos de atividade na pista de 800 metros de comprimento. Pode-se, portanto, constatar que:

- (A) Arnaldo percorreu 400 metros a mais que Bernardo
- (B) Bernardo percorreu 4000 metros a menos que Cláudio
- (C) Cláudio percorreu mais do que 3200 metros que Arnaldo
- (D) Arnaldo e Bernardo percorreram, juntos, a mesma distância de Cláudio

14

O número natural que é igual ao quociente de 16 dividido por esse número é:

- (A) 2.
- (B) -2.
- (C) 4.
- (D) -4.

ÁREA PARA RASCUNHO

ÁREA PARA RASCUNHO

NOÇÕES DE INFORMÁTICA

?





15

Após iniciar uma sessão no *Windows 10*, um funcionário resolveu organizar sua *Área de Trabalho*, arrastando alguns arquivos para a pasta *Documentos* e alguns atalhos de programas pouco utilizados para a *Lixeira*. Levando em consideração essa ação, analise as alternativas e assinale a correta.

- (A) Os programas que tiveram seus atalhos enviados à *Lixeira* podem ser reinstalados através da opção de recuperação disponibilizada no menu auxiliar do diretório.
- (B) Não será mais possível executar os programas que tiveram seus atalhos enviados à *Lixeira*.
- (C) Os ícones que representam os arquivos arrastados para a pasta *Documentos* não mais aparecem na *Área de Trabalho*.
- (D) Os arquivos arrastados para a pasta *Documentos* automaticamente geram atalhos na *Área de Trabalho*.

16

É bastante costumeiro que, em *e-mails* profissionais, haja a necessidade de anexar documentos para envio, por isso, a maioria dos clientes de *e-mail* atuais exibem um ícone por meio do qual é possível realizar o procedimento. Qual símbolo padrão da funcionalidade de anexar documentos na maioria dos clientes de *e-mail*?

- (A) 
- (B) 
- (C) 
- (D) 

CONHECIMENTOS ESPECÍFICOS

17

Assinale a alternativa correspondente aos animais que interagem de forma negativa com a população humana, causando-lhe transtornos significativos de ordem econômica ou ambiental, ou que represente riscos à saúde pública:

- (A) Silvestres.
- (B) Sinantrópicos.
- (C) Poríferos.
- (D) Cnidários.

18

O direito à informação, às pessoas assistidas, sobre sua saúde, segundo a Lei nº 8.080/90, é considerado:

- (A) Um objetivo do Sistema Único de Saúde.

- (B) Um princípio do Sistema Único de Saúde.
- (C) Uma meta do Sistema Único de Saúde.
- (D) Uma diretriz do Sistema Único de Saúde.

19

Pode-se dizer, de modo sintético, que uma investigação epidemiológica de campo consiste na repetição das etapas que se encontram a seguir, até que os objetivos referidos tenham sido alcançados:

- I - **Consolidação e análise de informações já disponíveis.**
- II - **Conclusões preliminares a partir dessas informações.**
- III - **Definição e adoção de medidas de prevenção e controle, apenas durante o início do processo.**

Sobre os itens acima, está correto o que se afirma em:

- (A) I, II e III.
- (B) I e II, apenas.
- (C) II e III, apenas.
- (D) III, apenas.

20

O principal objetivo da investigação de uma epidemia ou surto de determinada doença infecciosa é:

- (A) Identificar formas de interromper a transmissão e prevenir a ocorrência de novos casos.
- (B) Determinar a magnitude e extensão do evento.
- (C) Tratar, adequadamente, esses casos.
- (D) Ampliar o espectro das medidas de controle.

21

A vacina **Pneumocócica 10 Valente** previne contra:

- (A) Pneumonia, otite, meningite e outras doenças causadas pelo *Pneumococo*.
- (B) Pneumonia, faringite, varicela, otite, meningite e outras doenças causadas pelo *Pneumococo*.
- (C) Pneumonia, hepatite, otite, meningite e outras doenças causadas pelo *Pneumococo*.
- (D) Pneumonia, sinusite, febre amarela, otite, meningite e outras doenças causadas pelo *Pneumococo*.

22

Os principais sintomas e sinais das doenças infecciosas e parasitárias são, exceto:

- (A) Insônia.
- (B) Febre.
- (C) Adinamia.
- (D) Tosse.

23

Assinale a alternativa correspondente à Infecção intestinal causada por nematódeos, que pode apresentar-se assintomática, em caso de infecções leves. Em crianças com parasitismo intenso, pode ocorrer hipoproteinemia e atraso, no desenvolvimento físico e mental. Com frequência, dependendo da intensidade da infecção, acarreta anemia ferropriva:

- (A) Shigelose.
- (B) Ancilostomíase.
- (C) Oncocercose.

(D) Esquistossomose.

24

Epidemiologia estuda quantitativamente a distribuição dos fenômenos de saúde/doença nas populações humanas. Sobre epidemiologia, assinale a alternativa INCORRETA:

- (A) É a ciência que estuda a distribuição e os determinantes dos problemas de saúde em populações humanas.
- (B) Seu objeto são as relações de ocorrência de saúde/doença em massa. As relações são referidas e analisadas mediante o conceito de risco.
- (C) A epidemiologia descritiva estuda o comportamento das doenças de forma individual, isto é, em situações que elas ocorrem isoladas, segundo características ligadas à pessoa, ao lugar ou espaço físico e ao tempo.
- (D) A epidemiologia analítica investiga uma hipótese específica acerca da relação de causa e efeito, conduzindo estudos que investigam exposição de interesse com o efeito, na tentativa de encontrar uma associação causal.

25

Quando se fala da falta de serviços de saneamento podemos citar a água tratada, coleta e tratamento de esgoto, coleta de lixo e drenagem pluvial. A precariedade desses sistemas pode gerar sérios problemas de saúde pública. Em relação às doenças causadas pela falta de saneamento básico, analise os itens a seguir e assinale a alternativa correta:

- I - Uma das doenças é a febre tifoide, normalmente causada pelo consumo de água ou alimentos contaminados. A contaminação normalmente ocorre quando se entra em contato com esgoto exposto a céu aberto por exemplo.
- II - A leptospirose é transmitida por ratos urbanos ou contato com água contaminada, vindos pelas enchentes, devido à falta de uma drenagem urbana eficiente.
- III - Pela ingestão de alimentos diretamente contaminados pela mão do homem por falta de higiene pessoal temos a cólera, que é a grande responsável pela alta mortalidade infantil.

- (A) Apenas I e II estão corretas.
- (B) Apenas I e III estão corretas.
- (C) Apenas II e III estão corretas.
- (D) Apenas a II está correta.

26

Promoção da saúde é o nome dado ao processo de capacitação da comunidade para atuar na melhoria de sua qualidade de vida e saúde, incluindo uma maior participação no controle deste processo. Acerca de promoção da saúde, assinale a alternativa correta:

- (A) Alcançar a igualdade em saúde é um dos focos da promoção da saúde. As ações de promoção da saúde objetivam reduzir as diferenças no estado de saúde da população e assegurar oportunidades e recursos igualitários para capacitar todas as pessoas a realizar completamente seu potencial de saúde.
- (B) A promoção da saúde demanda uma ação coordenada especificamente entre três partes envolvidas: o governo, setor da saúde e organizações voluntárias.
- (C) A promoção da saúde não é responsabilidade exclusiva do setor saúde, e vai para além de um estilo de vida saudável, na direção de um bem-estar global.
- (D) As estratégias e programas na área da promoção da saúde devem se adaptar às necessidades locais e às possibilidades de cada país e região, sem levar em conta as diferenças em seus sistemas sociais, culturais e econômicos.

27

Uma doença infecciosa é caracterizada pelos sinais, sintomas e as alterações fisiológicas, bioquímicas e histopatológicas decorrentes das lesões causadas pelo agente infeccioso e pela resposta imune do hospedeiro. Ocorre destruição de tecidos, manifestações clínicas e patológicas. Em relação às doenças infecciosas e parasitárias mais comuns no Brasil, julgue os itens a seguir se verdadeiro (V) ou falso (F) e assinale a alternativa que apresenta a sequência correta:

- () AIDS é uma doença caracterizada por uma disfunção grave do sistema imunológico do indivíduo infectado pelo vírus da imunodeficiência humana (HIV). Seu período de incubação varia de 5 a 30 dias e pode ser dividida em três fases - infecção aguda, fase assintomática e fase sintomática inicial.
- () Dengue é uma doença infecciosa febril aguda, que pode ser de curso benigno ou grave, dependendo da forma como se apresenta. O período de incubação é de 3 a 15 dias, em média, de 5 a 6 dias.
- () O sarampo é doença infecciosa aguda, de natureza viral, transmissível e extremamente contagiosa. Sua evolução apresenta três períodos: período agudo, período regressivo e período progressivo.
- () A febre amarela é uma infecção viral, de gravidade variável, cujo quadro típico tem evolução bifásica. O início é repentino com febre, calafrios, cefaleia, mialgias, prostração, náuseas e vômitos, durando cerca de 5 dias; após os quais se observa remissão da febre e melhora dos sintomas, dando sensação de bem-estar aos pacientes durante algumas horas ou, no máximo, três dias.

- (A) F - V - V - F
- (B) V - F - V - V

- (C) F - F - V - V
(D) V - V - F - F

28

Vetores são seres vivos que transportam organismos patogênicos de forma mecânica ou biológica, promovendo a disseminação desses agentes infecciosos e a infecção de novas pessoas ou animais.

Sobre o controle de vetores, assinale a alternativa incorreta:

- (A) Existem três mecanismos de controle do *Aedes sp.* são eles: químico, mecânico e biológico. Estes podem ser utilizados de forma integrada ou individualizada, que dependerá do grau de infestação e de transmissão.
- (B) O controle do vetor *Anopheles sp.*, preferencialmente planejado e executado pela esfera municipal, tem como objetivo principal reduzir o risco de transmissão da filária, prevenindo a ocorrência de epidemias, com a consequente diminuição da morbimortalidade.
- (C) Para a realização de medidas eficazes de prevenção e controle das leishmanioses, devem-se considerar as peculiaridades das áreas com e sem transmissão da doença e, ainda, a diversidade das espécies de flebotomíneos vetores.
- (D) O controle da população de triatomíneos, vetores da doença de Chagas, deve ser realizado de maneira integrada, com ações de manejo do ambiente e de controle químico, quando indicado. O controle biológico não é recomendado pelo Ministério da Saúde.

29

O corpo humano é formado por estruturas simples como as células, até as mais complexas como os órgãos. Assinale a alternativa que apresenta de forma resumida, o nível de organização do corpo humano:

- (A) Tecidos - Células - Órgãos - Sistemas - Organismo
(B) Tecidos - Órgãos - Células - Organismo - Sistemas
(C) Células - Tecidos - Órgãos - Organismo - Sistemas
(D) Células - Tecidos - Órgãos - Sistemas - Organismo

30

O sistema imunológico, sistema imune ou imunitário é um conjunto de elementos existentes no corpo humano. Esses elementos interagem entre si e têm como objetivo defender o corpo contra doenças, vírus, bactérias, micróbios e outros. Sobre o sistema imunização, assinale a alternativa correta:

- (A) O processo de defesa do corpo através do sistema imunológico é chamado de resposta imune.
- (B) As células do sistema imune pertencem a dois grupos principais, os leucócitos e os macrófagos.
- (C) A imunidade principal é a nossa primeira linha de defesa. Esse tipo de imunidade já nasce com a pessoa, representada por barreiras físicas, químicas e biológicas.
- (D) A imunidade secundária é a defesa adquirida ao longo da vida, tais como anticorpos e vacinas,

depende da ativação de células especializadas, os leucócitos.

ÁREA PARA RASCUNHO